

سلام

با شنیدن کلمه جمع‌بندی یاد چه چیزهایی می‌افتید؟

بسته‌بندی، خالی‌بندی، کادربندی، جدول‌بندی، چشم‌بندی، تیتربندی و ...

راستش را بخواهید یک کتاب جمع‌بندی ممکن است به جای این که جمع‌بندی باشد، هر کدام از موارد بالا باشد!

حتماً می‌پرسید چه‌طور؟ جوابش این است که این‌طور:

■ اگر کتاب جمع‌بندی طوری نوشته شود که شامل تمام موارد و مفاهیم و نکات باشد و سعی کند هیچ چیزی را از قلم نیندازد، دیگر جمع‌بندی نیست، بلکه بسته‌بندی است. ما در این کتاب‌ها سعی کرده‌ایم این کار را نکنیم؛ فقط موارد اصلی و مهم و حیاتی را آورده‌ایم.

■ اگر کتاب جمع‌بندی ادعا کند تمام کنکور را پوشش می‌دهد و همه چیز را دارد و می‌تواند دانش‌آموز را به درصد ۱۰۰ و یا حتی بالاتر برساند، باز هم جمع‌بندی نیست؛ خالی‌بندی است. ما اما، هدفمان در این کتاب‌ها تمرکزکردن روی نکات مهم است، همه چیز را نگفته‌ایم و سعی نکرده‌ایم همه تست‌های کنکور را حدس بزنیم؛ فقط در حد لازم و البته کافی.

■ اگر کتاب جمع‌بندی فرقی با کتاب تست معمولی این باشد که مطالب را در جدول و کادر و نمودار بیاورد، می‌شود کتاب کادربندی یا جدول‌بندی.

■ اگر کتاب جمع‌بندی ادعا کند که می‌تواند در یک زمان کوتاه چند هفته‌ای، درصد دانش‌آموز را ۶۰ تا ۸۰ درصد بالا ببرد (تازه بعضی‌ها تا ۱۰۰ درصد هم ادعا می‌کنند) کتاب چشم‌بندی است.

■ اگر کتاب جمع‌بندی، توضیح و مثال درست و حسابی نداشته باشد و مطالب را تیتروار بیان کند و سریع از هر موضوعی عبور کند، می‌شود کتاب تیتربندی.

خب، دیگر بس است، هر چه که توانستیم در مورد کتاب‌های دیگران غیبت کردیم. اصلاً به ما و شما چه ربطی دارد که بقیه چه‌طورند؟ ما کتابی نوشته‌ایم که قرار است:

■ به شما کمک کند در زمان کوتاه یک دوره کامل از تمام مفاهیم اصلی و مهم کتاب درسی تان داشته باشید.

■ تیپ‌ها و شکل‌های متداول سؤال‌ها را ببینید.

■ با مثال‌ها و تمرین‌های مهم کتاب درسی آشنا شوید.

■ نمونه سؤال‌های برگزیده آزمون‌های سراسری سال‌های قبل را ببینید.

با این هدف‌ها، برای نوشتن کتاب‌های جمع‌بندی، رفتیم سراغ حرفه‌ای‌ترین مؤلف‌ها: همه تلاشمان را کردیم که برای هر کدام از درس‌ها یک کتاب ویژه، خوب، به درد بخور، خوش‌دست، خواندنی و جمع‌وجور بنویسیم. به نظرم که توانسته‌ایم قسمت زیادی از آن‌چه را که می‌خواستیم، انجام دهیم.

اما این که خودمان بنشینیم و قربان خودمان برویم که کاری ندارد! شما هستید که باید بگویید کارمان چه‌طور بوده؟ آیا کتابی که در دست دارید همه این خوبی‌هایی که گفتیم را دارد؟

برای جواب‌دادن به این سؤال باید شروع کنید به خواندنش؛ جمع‌وجور و روان هم که هست، پس خیلی طول نمی‌کشد. بعدش برایمان بنویسید که به نظرتان چند چندیم؟ خوبی‌های کتاب و همین‌طور بدی‌هایش را به ما بگویید. به نظرتان چه چیزهایی باید اضافه یا کم شوند؟ و خلاصه‌اش این که ما برایتان یک کتاب جمع‌وجور نوشته‌ایم، اما شما برایمان یک جواب مفصل بنویسید.

خوش و خاطر جمع باشید.

«هندسه راه شاهانه ندارد.»

اقلیدس

به نظرم کلاً درس خواندن راه شاهانه‌ای ندارد، هندسه که اصلاً! هدف این کتاب هم اینه که تو این مسیر سخت شما رو همراهی کنه و مسیر درست رو بهتون نشون بده.

این کتاب تا پیش داره:


به کارهای درس تابه: این جا هر چیزی رو که لازمه بدونید، براتون آوردم.

تست: در این قسمت، بیشتر تست‌های کنکوری رو می‌بینید که طبقه‌بندی شدن، به اضافه یه سری شبیه‌ساز.

پاسخ‌های تشریحی: این جا هم پاسخ تست‌ها رو داریم که سعی کردم واقعاً تشریحی باشن (امیدوارم که موفق بوده باشم). هر جا لازم بود نکته آوردم و هر جا هم می‌شد روش‌های دوم و سوم و ...

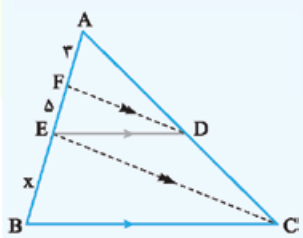
در تألیف این کتاب خیلیا کمکم کردن که جا داره از همشون تشکر کنم:

- نوید شاهی که کلی راهنماییم کرد. مرسی بابت همه چیز.
 - مهندس سبزمیدانی که اصول تألیف رو به من یاد دادن.
 - مهدی هاشمی که آخرای پروژه کلی زحمت کشید. مرسی که صبوری کردی. 😊
 - خانم زهرا جالینوسی که کتاب رو ویرایش کردن. ممنونم ازتون.
- و گروه تولید خیلی سبزمون که این قدر دقیق، منظم، خلاق و زحمت‌کش هستن.
در آخر ممنون می‌شم اگر انتقادات و پیشنهادهاتون رو باهام در میون بذارید:

 Keivan_saremi

۷	ترسیم‌های هندسی و استدلال	فصل اول
۱۶	قضیه تالس، تشابه و کاربردهای آن	فصل دوم
۳۰	چندضلعی‌ها	فصل سوم
۴۴	تجسم فضایی	فصل چهارم
۵۱	دایره	فصل پنجم
۶۷	تبدیل‌های هندسی و کاربردها	فصل ششم
۷۴	روابط طولی در مثلث	فصل هفتم
۸۲		پاسخ‌نامه تشریحی
۱۱۹		پاسخ‌نامه کلیدی

در بعضی از مسئله‌ها بیشتر از یک جفت پاره‌خط موازی وجود دارد. در چنین مواردی اول باید برای هر جفت از پاره‌خط‌های موازی قضیه تالس را بنویسیم؛ بعد و به کمک رابطه بین نسبت‌هایی که نوشته‌ایم مسئله را حل کنیم.
مثلاً در شکل زیر برای به دست آوردن مقدار x ، باید یک بار در مثلث ABC و بار دیگر در مثلث AEC از قضیه تالس استفاده کنیم:



$$\begin{cases} \Delta AEC \text{ در جزء به کل در } \frac{AF}{AE} = \frac{AD}{AC} \\ \Delta ABC \text{ در جزء به کل در } \frac{AE}{AB} = \frac{AD}{AC} \end{cases} \xrightarrow[\text{پس سمت پیشون هم باید برابر باشه}]{\text{سمت راست تساوی‌ها برابر}} \frac{AF}{AE} = \frac{AE}{AB}$$

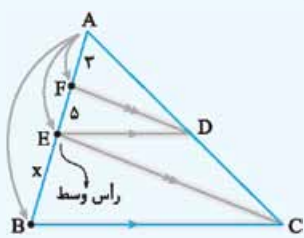
$$\Rightarrow \frac{3}{\lambda} = \frac{\lambda}{x + \lambda} \xrightarrow{\text{تفضیل در مخرج}} \frac{3}{5} = \frac{\lambda}{x} \Rightarrow 3x = 40 \Rightarrow x = \frac{40}{3}$$

این‌جا دو ساختار مهم وجود دارد که هم کتاب درسی و هم طراح‌ها دوستشان دارند. این ساختارها را در جدول زیر ببینید:

روابطی که می‌توانیم در این ساختارها بنویسیم	شکل	نام ساختار
<p>اول فاصله رأس A را مثل شکل زیر از سه رأس W مشخص می‌کنیم و بعد رابطه زیر را می‌نویسیم:</p> <p>حاصل ضرب فواصل A از رأس‌های کناری $W = (AF \times AB) = (AE)^2$ (فاصله A از رأس وسط W)</p> <p>$\Rightarrow AE^2 = AF \times AB$</p>		W
<p>معکوس طول پاره‌خط وسط را برابر با مجموع معکوس طول کناری‌هایش قرار می‌دهیم:</p> <p>$\frac{1}{x} = \frac{1}{a} + \frac{1}{b}$ مجموع معکوس a و b = معکوس x</p>		مقاومت‌های موازی

حالا بیایید در شکل بالای صفحه، x را به کمک ساختار **W** پیدا کنیم:

$(AF \times AB) = (AE)^2 \Rightarrow (3 \times 8) = (3 + 5 + x)^2 \Rightarrow 24 = (8 + x)^2 \Rightarrow 64 = 3x + 24 \Rightarrow x = \frac{40}{3}$

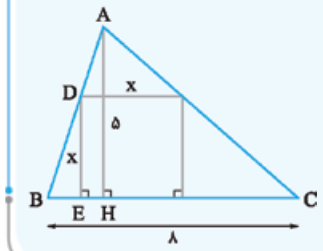


می‌دانیم در چهارضلعی‌هایی مثل مربع، مستطیل، متوازی‌الاضلاع و ... ضلع‌های مقابل به هم موازی‌اند؛ پس هر وقت این چهارضلعی‌ها در یک مثلث محاط بشوند، می‌توانیم از قضیه تالس استفاده کنیم. برای درک بهتر این موضوع جدول زیر را ببینید:

مربع یا مستطیل	متوازی‌الاضلاع	شکل
<p>۱- استفاده از تالس در مثلث ABC (پهن MN با BC موازیه)</p> <p>۲- کشیدن ارتفاع AH و استفاده از قضیه تالس در مثلث‌های ABH و ACH (پهن NP و MQ با AH موازیه)</p>	<p>۱- استفاده از تالس با توجه به موازی بودن MN و BC</p> <p>۲- استفاده از تالس با توجه به موازی بودن AB و NP</p>	<p>چه جوری از تالس استفاده کنیم؟</p>



مثلاً در شکل زیر برای پیدا کردن طول ضلع مربع دو بار از قضیه تالس استفاده می‌کنیم:



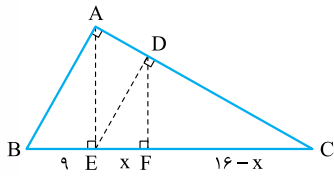
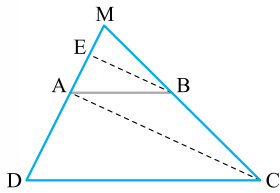
$$\begin{cases} \Delta ABH \text{ نوع اول جزء به کل در } \Delta ABH: \frac{BD}{AB} = \frac{x}{h} \\ \Delta ABC \text{ نوع اول جزء به کل در } \Delta ABC: \frac{AD}{AB} = \frac{x}{h} \end{cases} \rightarrow \frac{BD+AD}{AB} = \frac{x}{h} + \frac{x}{h} \Rightarrow 1 = \frac{2x}{h} \Rightarrow x = \frac{h}{2}$$

۳۰- در دوزنقه ABCD، پاره خط BE موازی قطر AC است. اگر $AD = 7$ و $AE = 3$ باشد، فاصله MD کدام است؟ (خارج ۹۳)

- (۱) ۱۲
(۲) $12/25$
(۳) $12/5$
(۴) $12/75$

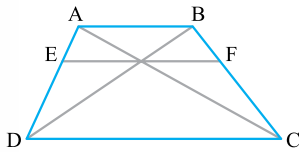
۳۱- در شکل مقابل، ارتفاع هر سه مثلث قائم‌الزاویه رسم شده است. اندازه x کدام است؟ (سراسری ۸۹)

- (۱) $4/54$
(۲) $5/36$
(۳) $5/76$
(۴) $6/75$



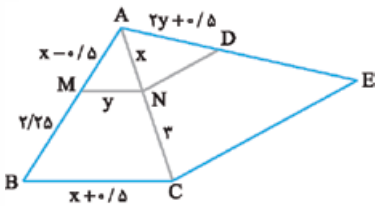
۳۲- در شکل روبه‌رو، $AB \parallel EF \parallel DC$ و اندازه پاره‌خط‌های AB و DC، به ترتیب ۵ و ۹ واحد است. اندازه پاره خط EF کدام است؟ (خارج ۹۹)

- (۱) $4/5$
(۲) $45/6$
(۳) $3\sqrt{5}$
(۴) ۷



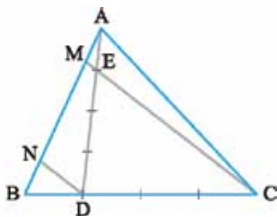
۳۳- در شکل مقابل، اگر $MN \parallel BC$ و $ND \parallel CE$ باشد، مقدار طول پاره خط DE کدام است؟ (مشابه تمرین کتاب درسی)

- (۱) ۳
(۲) $3/25$
(۳) $3/5$
(۴) $3/75$



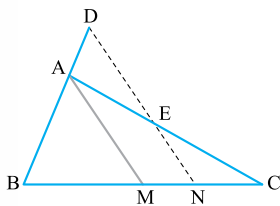
۳۴- در شکل مقابل، اگر $BD = \frac{1}{4}BC$ ، $AE = \frac{1}{4}AD$ و $DN \parallel CM$ ، اندازه AB چند برابر AM است؟ (خارج ۹۷)

- (۱) ۴
(۲) $4/5$
(۳) ۵
(۴) ۶



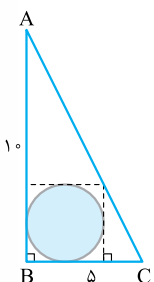
۳۵- در مثلث ABC ($AB = \frac{2}{3}AC$)، پاره خط ND موازی میانه AM است. نسبت $\frac{AD}{AE}$ کدام است؟

- (۱) $4/9$
(۲) $5/9$
(۳) $2/3$
(۴) $4/5$



۳۶- اگر اندازه اضلاع قائمه مثلث ABC، ۵ و ۱۰ باشد، مساحت ناحیه رنگی برابر کدام است؟ (سراسری ۱۴۰۲ - نوبت اول با تغییر)

- (۱) $25\pi/9$
(۲) $16\pi/9$
(۳) $9\pi/4$
(۴) $5\pi/4$



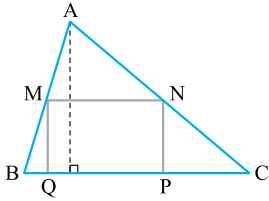
فصل دوم: قضیه تالس، تشابه و کاربردهای آن



۳۷- در شکل مقابل، اندازه قاعده BC و ارتفاع وارد بر آن به ترتیب برابر ۶ و ۵ واحد است. اگر نسبت طول

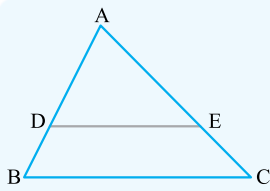
به عرض مستطیل محاط‌شده در مثلث $\frac{3}{4}$ باشد، مساحت مستطیل برابر کدام است؟

- (۱) $\frac{100}{9}$ (۲) $\frac{200}{27}$ (۳) $\frac{50}{3}$ (۴) $\frac{25}{3}$



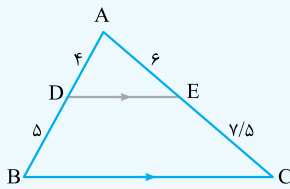
۴ عکس قضیه تالس

عکس قضیه تالس هم برقرار است؛ یعنی در شکل مقابل از برقراری هر یک از نسبت‌های $\frac{BD}{AB} = \frac{CE}{AC}$ یا $\frac{AD}{DB} = \frac{AE}{EC}$ یا $\frac{AD}{AB} = \frac{AE}{AC}$ می‌توانیم نتیجه بگیریم که $DE \parallel BC$ است.



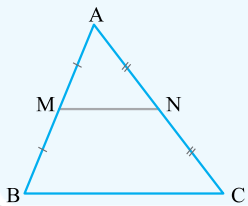
مثلاً در شکل مقابل $DE \parallel BC$ است، دلایل هم برقراری نسبت $\frac{4}{5} = \frac{6}{7/5}$ است:

$$\frac{4}{5} = \frac{6}{7/5} \Rightarrow \frac{4 \times 7/5}{30} = \frac{6 \times 5}{30}$$



میان خط مثلث به پاره‌خطی که وسط دو ضلع از مثلث را به هم وصل می‌کند، یک میان خط آن مثلث می‌گوییم. میان خط همیشه موازی و نصف ضلع سوم است.

مثلاً برای پاره‌خط MN در شکل مقابل می‌توانیم بنویسیم:

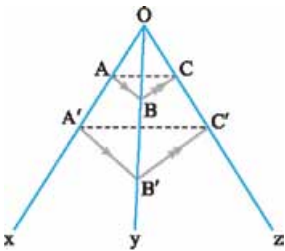


$$\left\{ \begin{array}{l} M \text{ وسط ضلع } AB \\ N \text{ وسط ضلع } AC \end{array} \right. \Rightarrow MN \parallel BC \text{ و } MN = \frac{1}{2}BC$$

۳۸- در شکل مقابل، $AB \parallel A'B'$ و $BC \parallel B'C'$ است. اگر $\frac{AA'}{OA} = \frac{5}{4}$ باشد، نسبت $\frac{AC}{A'C'}$ کدام است؟

(مشابه تمرین کتاب درسی)

- (۱) $\frac{2}{5}$ (۲) $\frac{8}{9}$ (۳) $\frac{3}{4}$ (۴) $\frac{4}{9}$



۳۹- اضلاع مثلث ABC، برابر ۴، ۶، ۷ و $BC=7$ هستند. از رأس C خطی موازی میانه AM رسم شده و امتداد BA را در نقطه D قطع کرده است. اگر $AD + DC = 12$ باشد، طول میانه AM برابر کدام است؟

- (۱) $3/75$ (۲) ۴ (۳) $4/25$ (۴) $4/5$

۵ قضیه تالس در ذوزنقه

قضیه تالس علاوه بر مثلث، در ذوزنقه هم برقرار است. به این ترتیب که اگر خطی موازی با یکی از قاعده‌های ذوزنقه رسم بشود، روی ساق‌های آن تکه‌هایی با طول‌های متناسب درست می‌کند. یعنی در ذوزنقه روبه‌رو اگر $MN \parallel AB \parallel DC$ باشد، می‌توانیم بنویسیم:

$$\frac{AM}{MD} = \frac{BN}{NC}$$

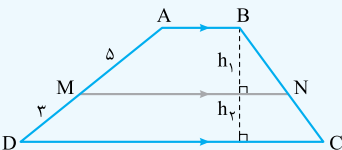
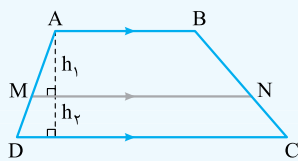
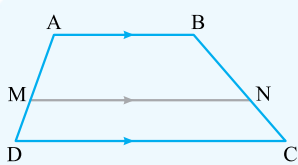
نکته ۱ عکس قضیه تالس در ذوزنقه برقرار است؛ یعنی در شکل بالا اگر $\frac{AM}{MD} = \frac{BN}{NC}$ باشد، می‌توانیم بگوییم $MN \parallel AB \parallel DC$ است.

نکته ۲ خطی که موازی یکی از قاعده‌های ذوزنقه رسم می‌شود، ارتفاع آن را هم متناسب با ساق‌ها قطع می‌کند؛ ببینید:

$$AB \parallel MN \parallel DC \Leftrightarrow \frac{h_1}{h_2} = \frac{AM}{MD} = \frac{BN}{NC}$$

مثلاً در شکل مقابل با توجه به این‌که پاره‌خط MN موازی قاعده‌ها است، می‌توانیم بگوییم

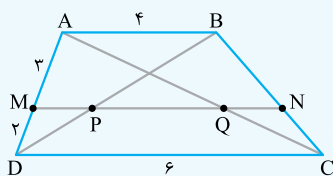
$$\frac{AM}{MD} = \frac{h_1}{h_2} = \frac{5}{3} \text{ است.}$$



کنه طراحان محاسبه طول پاره خط MN و تکه‌هایی را که قطرهای دوزنقه بر روی آن درست می‌کنند، خیلی دوست دارند. به همین خاطر روش پیدا کردن طول همه آن‌ها را در جدول زیر برایتان آورده‌ام:

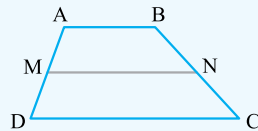
توضیح	طول قطعات	شکل
طول پاره‌خطی که موازی قاعده‌های دوزنقه است (MN) به کمک طول قاعده‌ها (a و b) و تکه‌های ایجاد شده روی یکی از ساق‌ها (m و n) پیدا می‌شود.	$MN = \frac{mb + na}{m + n}$	
طول تکه‌هایی که قطرهای دوزنقه روی پاره خط MN درست می‌کنند، به کمک اندازه قاعده‌ها (a و b) و تکه‌های ایجاد شده روی یکی از ساق‌ها (m و n) پیدا می‌شود.	$PQ = \frac{mb - na}{m + n}$ $MP = QN = \frac{MN - PQ}{2}$	
اگر خطی که موازی قاعده‌ها رسم می‌شود (MN)، از محل برخورد قطرهای (O) بگذرد، طول تکه‌هایی که روی MN درست می‌شود (OM و ON) برابرند. طول این تکه‌ها به کمک اندازه قاعده‌ها (a و b) پیدا می‌شود.	$OM = ON = \frac{ab}{a + b}$	

مثلاً در دوزنقه مقابل، طول تکه‌های MP، PQ و QN برابر می‌شوند با:



$$\begin{cases} MN = \frac{(3 \times 6) + (2 \times 4)}{3 + 2} = \frac{26}{5} = 5 \frac{1}{5} \\ PQ = \frac{(3 \times 6) - (2 \times 4)}{3 + 2} = \frac{10}{5} = 2 \end{cases} \Rightarrow MP = QN = \frac{MN - PQ}{2} = \frac{5 \frac{1}{5} - 2}{2} = 1 \frac{1}{10}$$

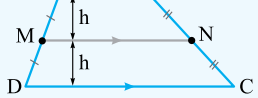
میان خط دوزنقه به پاره‌خطی که وسط ساق‌های دوزنقه را به هم وصل می‌کند (مثل پاره خط MN در شکل زیر)، میان خط دوزنقه می‌گوییم.



$$\begin{cases} M \text{ وسط } AD \\ N \text{ وسط } BC \end{cases} \Rightarrow MN \text{ میان خط دوزنقه } ABCD \text{ است.}$$

در مورد میان خط دوزنقه باید موارد زیر را بدانید:

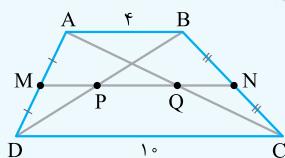
1 میان خط هر دوزنقه موازی قاعده‌های آن است. این خط مطابق شکل مقابل، ارتفاع دوزنقه را نصف می‌کند.



2 اگر رابطه‌هایی را که در جدول بالا برای محاسبه طول MN، MP، PQ و QN گفتیم، این‌جا برای میان خط بنویسیم، به جدول زیر

	طول میان خط = $MN = \frac{a + b}{2}$
	$PQ = \frac{b - a}{2}$
	$MP = QN = \frac{a}{2}$

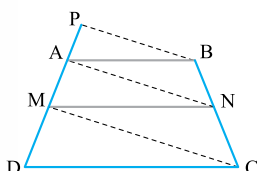
می‌رسیم:



مثلاً در دوزنقه مقابل داریم: $MP = QN = \frac{4}{2} = 2$ و $PQ = \frac{10 - 4}{2} = 3$ و $MN = \frac{4 + 10}{2} = 7$

۴۰- در شکل مقابل، $DC \parallel MN \parallel AB$ و $MC \parallel AN \parallel PB$ است. اگر $BN = 2NC$ و $PD = 19$ باشد،

طول پاره خط MD کدام است؟



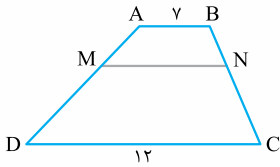
۵ (۲)

۳ (۱)

۹ (۴)

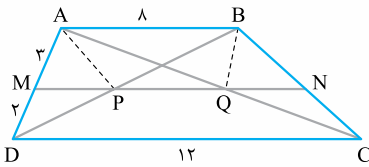
۷ (۳)

۴۱- در دوزنقه $ABCD$ ، پاره خط MN موازی قاعده‌ها و $\frac{MA}{MD} = \frac{2}{3}$ است. اندازه MN کدام است؟ (تجربی خارج ۹۹)



- (۱) ۸
(۲) ۸/۷۵
(۳) ۹
(۴) ۹/۵

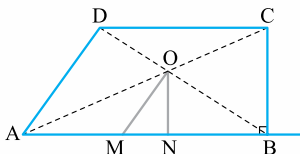
۴۲- در دوزنقه $ABCD$ شکل زیر، پاره خط MN موازی قاعده‌ها است. مساحت دوزنقه $ABQP$ چند درصد مساحت دوزنقه $ABCD$ است؟



- (۱) ۳۶
(۲) ۴۲
(۳) ۴۸
(۴) ۵۴

۴۳- مطابق شکل زیر، محل تلاقی قطرهای دوزنقه قائم‌الزاویه $ABCD$ ($\hat{B} = 90^\circ$)، پاره‌های OM و ON به ترتیب موازی با AD و BC رسم شده‌اند.

(سراسری ۹۹)



- نسبت $\frac{AM}{BN}$ کدام است؟
(۱) ۱
(۲) ۲
(۳) کوچک‌تر از ۱
(۴) بزرگ‌تر از ۱ کوچک‌تر از ۲

۴۴- در یک دوزنقه خطی که وسط ساق‌ها را به هم وصل کند، مساحت آن را به نسبت ۳ به ۵ تقسیم می‌کند. نسبت قاعده‌های دوزنقه کدام است؟

(سراسری ۹۸)

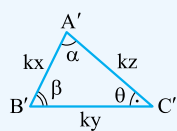
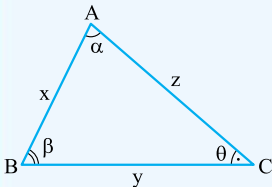
- (۱) $\frac{1}{4}$
(۲) $\frac{1}{3}$
(۳) $\frac{2}{5}$
(۴) $\frac{3}{5}$

۴۵- اگر در یک دوزنقه، خطی که وسط ساق‌ها را به هم وصل می‌کند، توسط قطر‌ها به سه قسمت مساوی تقسیم شود، نسبت قاعده‌های دوزنقه برابر کدام است؟

- (۱) $\frac{1}{2}$
(۲) $\frac{1}{3}$
(۳) $\frac{2}{3}$
(۴) $\frac{3}{5}$

۶ تشابه مثلث‌ها

دو مثلث با یکدیگر متشابه‌اند، اگر و تنها اگر مثل شکل‌های زیر زاویه‌های آن‌ها هم‌اندازه و طول ضلع‌های نظیرشان متناسب باشند.

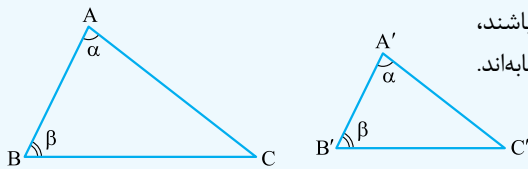


$$\begin{cases} \hat{A} = \hat{A}' \\ \hat{B} = \hat{B}' \\ \hat{C} = \hat{C}' \end{cases}, \frac{AB}{A'B'} = \frac{AC}{A'C'} = \frac{BC}{B'C'} = k \Rightarrow \triangle ABC \sim \triangle A'B'C'$$

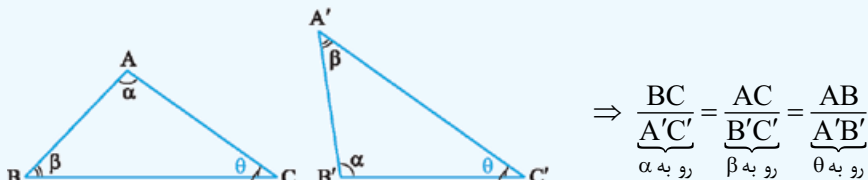
به نسبت ضلع‌های نظیر (دو ضلعی که رو به رو به زاویه برابر، مثل BC و $B'C'$ که هفتشون رو به α هستن). در دو مثلث متشابه، نسبت تشابه می‌گوییم و معمولاً آن را با k نشان می‌دهیم.

حالت‌های تشابه

۱. تشابه با دو زاویه برابر: اگر دو زاویه از یک مثلث با دو زاویه از مثلثی دیگر برابر باشند، دو مثلث متشابه‌اند. مثلاً مثلث‌های مقابل با دو زاویه برابر α و β با یکدیگر متشابه‌اند.



نوشتن نسبت تشابه: برای نوشتن نسبت تشابه دو مثلث، ضلع‌های رو به زاویه‌های برابر را در یک نسبت زیر هم می‌نویسیم؛ به طوری که در صورت نسبت‌ها اضلاع یک مثلث و در مخرج آن‌ها اضلاع مثلث دیگر قرار داشته باشند. برای نمونه بیایید نسبت تشابه دو مثلث پایین را بنویسیم:



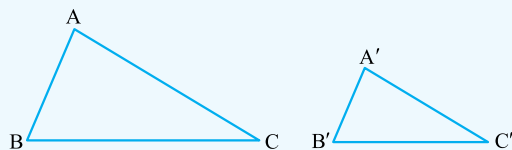
وقتی دو زاویه از ABC با دو زاویه از $A'B'C'$ برابر، پس زاویه‌های سومشون هم مجزبه‌طور برابر می‌شن که با θ نشونشون داریم.

هواستون هست که تو صورت نسبت‌ها فقط اضلاع مثلث ABC و تو مخرجشون فقط اضلاع مثلث $A'B'C'$ قرار داره!

در جدول زیر ساختارهای هندسی معروفی که در آن‌ها دو مثلث با دو زاویه برابر متشابه هستند آمده است. این ساختارها را به خوبی بشناسید:

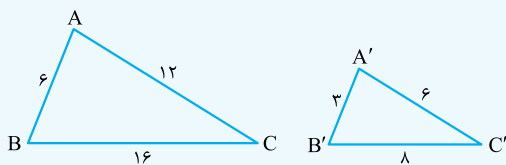
مثال	مثلث‌های متشابه	شکل ساختار	نام ساختار
—	$\triangle ADE \sim \triangle ABC$		تالسی
	$\triangle AOB \sim \triangle COD$		پروانه‌ای
	$\triangle ABC \sim \triangle EDC$		اشتراکی (مشترک در یک رأس و دارای یک زاویه برابر)
	$\triangle ADC \sim \triangle ABC$		

۲. **تشابه با سه ضلع متناسب** اگر سه ضلع از یک مثلث با سه ضلع از مثلثی دیگر متناسب باشد، دو مثلث متشابه‌اند.



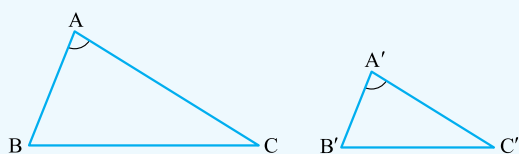
$$\frac{AB}{A'B'} = \frac{AC}{A'C'} = \frac{BC}{B'C'} \Rightarrow \triangle ABC \sim \triangle A'B'C'$$

مثلاً مثلث‌های زیر با سه ضلع متناسب متشابه‌اند. علتش هم این است که بین طول ضلع‌های این دو مثلث، رابطه $\frac{6}{3} = \frac{12}{6} = \frac{16}{8}$ برقرار است.



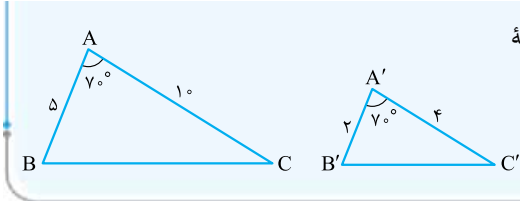
۳. **تشابه با دو ضلع متناسب و زاویه بین برابر** اگر دو ضلع از مثلثی با

دو ضلع از مثلثی دیگر متناسب باشند، به طوری که زاویه بین آن‌ها برابر باشند، دو مثلث متشابه‌اند.

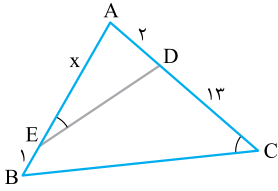


$$\frac{AB}{A'B'} = \frac{AC}{A'C'}, \hat{A} = \hat{A}' \Rightarrow \triangle ABC \sim \triangle A'B'C'$$

مثلاً مثلث‌های زیر با دو ضلع متناسب و زاویه بین برابر متشابه‌اند، چون هر دو رابطه
 $\frac{5}{2} = \frac{10}{4}$ و $\hat{A} = \hat{A}' = 70^\circ$ ، برقرار است.
 تناسب دو ضلع
 زاویه بین برابر

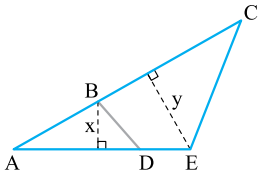


۴۶- در شکل مقابل، $\hat{AED} = \hat{ACB}$ است. مقدار x کدام است؟ (سراسری تجربی ۱۴۰۲ - نوبت اول)



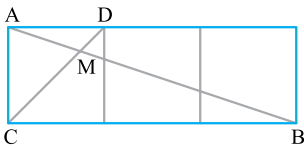
- ۷ (۱)
- ۶ (۲)
- ۵ (۳)
- ۴ (۴)

۴۷- در شکل مقابل، $BC = 10$ و $AB = 6$ ، $DE = 4$ ، $AD = 8$ ، نسبت $\frac{x}{y}$ کدام است؟



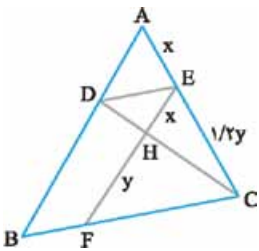
- $\frac{5}{9}$ (۲)
- $\frac{4}{5}$ (۴)
- $\frac{1}{2}$ (۱)
- $\frac{2}{3}$ (۳)

۴۸- در شکل روبه‌رو، سه مربع به اضلاع واحد، کنار هم قرار دارند. فاصله MA چند برابر $\sqrt{10}$ است؟



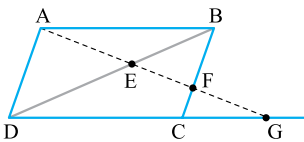
- $\frac{1}{4}$ (۲)
- $\frac{1}{5}$ (۴)
- $\frac{1}{3}$ (۱)
- $\frac{2}{9}$ (۳)

۴۹- در شکل مقابل، $DE \parallel BC$ و $2y = 5x$ است. اگر $BF = 3$ باشد، اندازه BC کدام است؟



- ۶/۷۵ (۱)
- ۶/۲۵ (۲)
- ۵/۷۵ (۳)
- ۵/۲۵ (۴)

۵۰- در شکل زیر، چهارضلعی $ABCD$ متوازی‌الاضلاع است. مقدار $EF \times EG$ کدام است؟

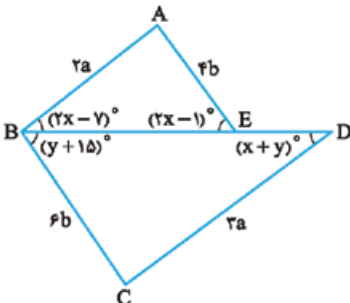


- EA^2 (۱)
- ED^2 (۲)
- $EB \times ED$ (۳)
- $FB \times FC$ (۴)

۵۱- مثلثی به اضلاع ۵، ۴ و a با مثلثی به طول اضلاع ۹، ۷ و b متشابه است. بیشترین مقدار ممکن برای عدد a کدام است؟

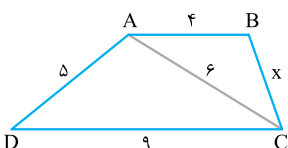
- $\frac{36}{7}$ (۱)
- $\frac{36}{5}$ (۳)
- $\frac{45}{7}$ (۲)
- $\frac{35}{4}$ (۴)

۵۲- در شکل مقابل، اگر $BE = 2DE$ ، حاصل $x + y$ کدام است؟ (تمرین کتاب درسی)



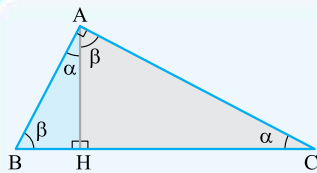
- ۸ (۱)
- ۹ (۲)
- ۱۰ (۳)
- ۱۱ (۴)

۵۳- در شکل مقابل، $ABCD$ دوزنقه است. مقدار x کدام است؟



- $2/5$ (۲)
- $1/3$ (۴)
- $1/25$ (۱)
- $2/9$ (۳)

روابط طولی در مثلث قائم الزاویه



در هر مثلث قائم الزاویه، با کشیدن ارتفاع وارد بر وتر (مثل AH در شکل مقابل)، دو مثلث متشابه درست می‌شود (مثلث‌های ABH و ACH) که هر کدامشان با مثلث اصلی متشابه‌اند؛ یعنی:

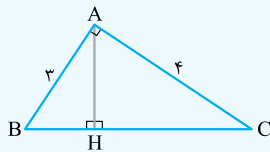
$$\triangle ABH \sim \triangle ACH \sim \triangle ABC$$

با نوشتن نسبت تشابه هر یک از مثلث‌های بالا، روابط طولی در مثلث قائم الزاویه به صورت زیر به دست می‌آیند:

① $AB^2 = BH \times BC$ و ② $AC^2 = CH \times BC$ و ③ $AB^2 + AC^2 = BC^2$ و ④ $AH^2 = BH \times HC$

و ⑤ $AB \times AC = AH \times BC$

مثلاً بیایید به کمک رابطه‌های بالا طول پاره‌خط‌های BC، AH، BH، HC را در مثلث قائم الزاویه مقابل پیدا کنیم:



✓ محاسبه طول BC: طول این پاره‌خط به کمک فیثاغورس (رابطه ۳) پیدا می‌شود:

$$BC^2 = AB^2 + AC^2 \Rightarrow BC^2 = 3^2 + 4^2 \Rightarrow BC^2 = 25 \Rightarrow BC = 5$$

البته می‌توانستیم این‌طور هم بگوییم که چون ۳، ۴ و ۵ عددهای فیثاغورسی‌اند، پس $BC = 5$ است.

✓ محاسبه طول AH: طول این پاره‌خط را با استفاده از رابطه (۵) پیدا می‌کنیم:

$$AH \times BC = AB \times AC \Rightarrow AH \times 5 = 3 \times 4 \Rightarrow AH = \frac{12}{5} = 2 \frac{2}{5}$$

✓ محاسبه طول BH: از رابطه (۱) استفاده می‌کنیم:

$$AB^2 = BH \times BC \Rightarrow 3^2 = BH \times 5 \Rightarrow BH = \frac{9}{5} = 1 \frac{4}{5}$$

✓ محاسبه طول HC: از رابطه (۲) استفاده می‌کنیم:

$$AC^2 = CH \times BC \Rightarrow 4^2 = CH \times 5 \Rightarrow CH = \frac{16}{5} = 3 \frac{1}{5}$$

البته برای محاسبه طول HC می‌توانستیم طول BH را از BC کم کنیم:

$$HC = BC - BH = 5 - 1 \frac{4}{5} = 3 \frac{1}{5}$$

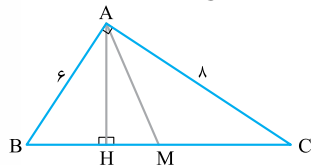
۵۴- در یک مثلث قائم الزاویه، اندازه دو پاره‌خطی که ارتفاع وارد بر وتر، بر روی وتر ایجاد می‌کند $\frac{2}{5}$ و $\frac{14}{4}$ سانتی‌متر است. طول ارتفاع وارد بر وتر، چند سانتی‌متر است؟ (سراسری ۱۴۰۱)

- ۸ (۴) ۷/۲ (۳) ۶ (۲) ۴/۸ (۱)

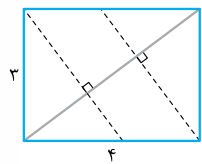
۵۵- در مستطیل ABCD به طول $AB = 17$ ، از نقطه A عمود AH بر قطر BD رسم شده است. اگر $BH = 15$ باشد، طول قطر مستطیل از عدد ۱۹ چه قدر بیشتر است؟ (تجربی خارج ۹۸)

- $\frac{3}{5}$ (۴) $\frac{7}{15}$ (۳) $\frac{1}{3}$ (۲) $\frac{4}{15}$ (۱)

۵۶- مثلث قائم الزاویه زیر با اضلاع قائمه ۶ و $AB = 8$ و مفروض است. اگر ارتفاع AH و میانه مثلث باشد، نسبت $\frac{HM}{BC}$ کدام است؟



- ۰/۱۲ (۱)
۰/۱۴ (۲)
۰/۱۶ (۳)
۰/۱۸ (۴)

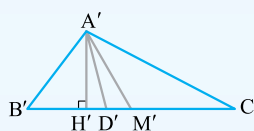
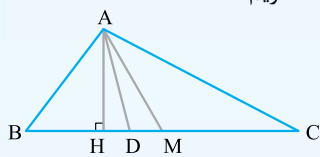


۵۷- در مستطیلی به طول اضلاع ۳ و ۴ واحد، از هر دو رأس متقابل، عمودی بر قطر دیگر این مستطیل رسم شده است. مساحت متوازی‌الاضلاع حاصل کدام است؟ (سراسری ۹۶)

- ۵/۷۵ (۲) ۵/۲۵ (۱)
۷/۵ (۴) ۶ (۳)

نسبت اجزای فرعی در تشابه

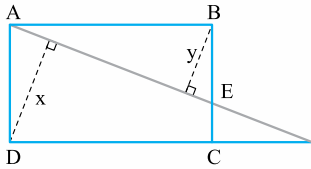
اگر دو مثلث متشابه باشند، نسبت هر دو جزء متناظر مثل میانه‌ها، نیمسازها و ارتفاع‌ها و همچنین محیطها هم برابر نسبت تشابه (نسبت ضلع‌های نظیر) است. مثلاً اگر مثلث‌های زیر با نسبت تشابه $\frac{AB}{A'B'} = \frac{AC}{A'C'} = \frac{BC}{B'C'} = k$ متشابه باشند، داریم:



$$\frac{AH}{A'H'} = \frac{AD}{A'D'} = \frac{AM}{A'M'} = \frac{\text{محیط مثلث } ABC}{\text{محیط مثلث } A'B'C'} = k$$

نسبت ارتفاعها نسبت نیمسازها نسبت میانه‌ها





۵۸- در شکل مقابل، چهارضلعی ABCD یک مستطیل است. اگر $BE = 2EC$ باشد، نسبت $\frac{x}{y}$ کدام است؟

(۲) $\frac{5}{4}$

(۱) $\frac{4}{3}$

(۴) $\frac{5}{3}$

(۳) $\frac{3}{2}$

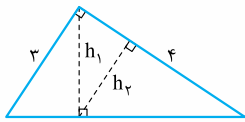
۵۹- در دوزنقه‌ای به طول قاعده‌های ۶، ۹ و ارتفاع ۲ واحد، امتداد دو ساق در نقطه M متقاطع‌اند. فاصله M از قاعده بزرگ‌تر چه قدر است؟

(۴) ۸

(۳) ۷

(۲) ۶

(۱) ۵



۶۰- در شکل مقابل، h_1 و h_2 ارتفاع‌های دو مثلث قائم‌الزاویه هستند. نسبت $\frac{h_2}{h_1}$ کدام است؟

(۲) $\frac{4}{5}$

(۱) $\frac{3}{5}$

(۴) $\frac{3}{4}$

(۳) $\frac{2}{3}$

۶۱- مثلث ABC به طول اضلاع a، b و c با مثلث A'B'C' به طول اضلاع ۳، ۴ و ۵ متشابه است و دو مثلث قابل انطباق نیستند. بیشترین محیط مثلث ABC کدام است؟

(۴) $\frac{13}{5}$

(۳) ۱۰

(۲) ۹

(۱) $\frac{7}{2}$

۹ نسبت مساحت دو مثلث

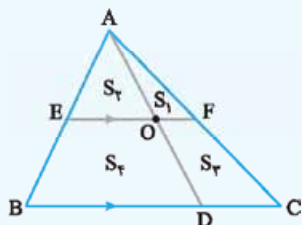
برای به دست آوردن نسبت مساحت دو مثلث موارد زیر را بلد باشید:

۱ اگر اندازه ارتفاع‌های دو مثلث برابر باشد، در این صورت نسبت مساحت‌هایشان برابر نسبت قاعده‌هایی است که این ارتفاع‌های برابر بر آن‌ها وارد می‌شود. دوتا از ساختارهای پرکاربردی که مثلث‌های هم‌ارتفاع ایجاد می‌کنند را در جدول زیر ببینید:

توضیح	ساختار
<p>اگر یک رأس مثلث را به نقاط مختلفی که روی ضلع مقابل به آن قرار دارند وصل کنیم، همه مثلث‌هایی که درست می‌شوند هم‌ارتفاع‌اند.</p> $\frac{S_{AA_1A_2}}{S_{ABA_1}} = \frac{A_1A_2}{BA_1} \quad \text{یا} \quad \frac{S_{AA_1A_3}}{S_{ABC}} = \frac{A_1A_3}{BC} \quad \dots$	
<p>با رسم قطر هر دوزنقه، دو مثلث هم‌ارتفاع درست می‌شود.</p> $\frac{S}{S'} = \frac{a}{b}$	

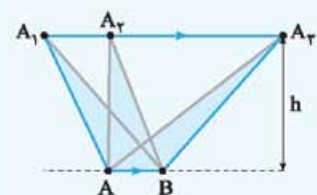
نکته در شکل مقابل، اگر پاره‌خط EF موازی قاعده BC باشد، آن‌گاه:

$$\frac{S_1}{S_r} = \frac{S_r}{S_f} = \left(\frac{OF}{OE}\right) = \left(\frac{DC}{BD}\right)$$



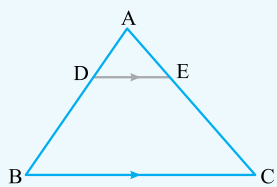
۲ اگر در دو مثلث اندازه قاعده‌ها و هم‌چنین ارتفاع‌های وارد بر آن‌ها یکسان باشند، مساحت دو مثلث با هم برابر است. شکل زیر یکی از ساختارهای هندسی مهمی است که مثلث‌هایی با مساحت‌های برابر به وجود می‌آورد. در این شکل $AB \parallel A_1A_3$ بوده و مساحت مثلث‌های A_1AB و A_3AB و A_3AB برابرند؛ زیرا هر سه مثلث هم در قاعده AB و هم در ارتفاع به طول h مشترک هستند.

۳ اگر دو مثلث متشابه باشند، نسبت مساحت آن‌ها برابر مربع نسبت متشابه‌شان است.

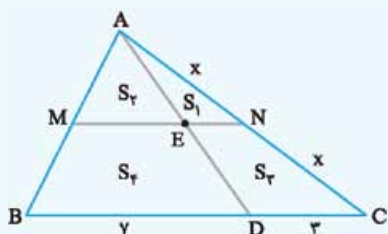


نتیجه هرگاه دو مثلث مطابق شکل مقابل، بنا بر ساختار تالسی با یکدیگر متشابه باشند، نسبت مساحت آن‌ها برابر است با:

$$\frac{S_{ADE}}{S_{ABC}} = \left(\frac{AD}{AB}\right)^2 \quad \text{یا} \quad \left(\frac{AE}{AC}\right)^2 \quad \text{یا} \quad \left(\frac{DE}{BC}\right)^2$$



مثلاً در شکل مقابل اگر $MN \parallel DC$ و $AN = NC$ باشد، مساحت قسمت‌های مختلف مثلث ABC به صورت زیر به دست می‌آید:



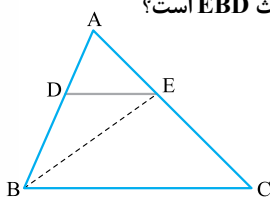
۱ مثلث‌های AEN و ADC طبق ساختار تالسی متشابه‌اند؛ پس:

$$\frac{S_{AEN}}{S_{ADC}} = \left(\frac{x}{2x}\right)^2 \Rightarrow \frac{S_1}{S_1 + S_2} = \frac{1}{4} \xrightarrow{\text{تفصیل در مخرج}} \frac{S_1}{S_2} = \frac{1}{3} \Rightarrow S_1 = A, S_2 = 3A$$

۲ حالا با توجه به نکته‌ای که در صفحه قبل گفتیم داریم:

$$\frac{S_1}{S_2} = \frac{S_3}{S_4} = \frac{2}{5} \xrightarrow{S_1=A, S_2=3A} \frac{A}{3A} = \frac{S_3}{S_4} = \frac{2}{5} \Rightarrow \begin{cases} \frac{A}{S_3} = \frac{2}{5} \Rightarrow S_3 = \frac{5}{2}A \\ \frac{3A}{S_4} = \frac{2}{5} \Rightarrow S_4 = \frac{15}{2}A \end{cases}$$

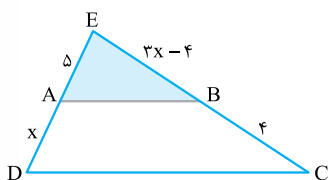
۶۲- در مثلث ABC ، پاره خط DE موازی ضلع BC و $AD = \frac{4}{5}DB$ است. مساحت مثلث EBC چند برابر مساحت مثلث EBD است؟



- ۲ (۱)
- ۲/۲۵ (۲)
- ۲/۵ (۳)
- ۲/۷۵ (۴)

(خارج ۹۹)

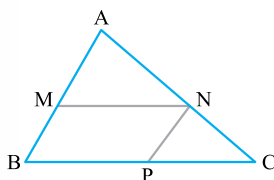
۶۳- در شکل مقابل، مساحت دوزنقه $ABCD$ چند برابر مساحت مثلث EAB است؟



- ۱۶/۹ (۲)
- ۲۵/۱۶ (۳)
- ۳۶/۲۵ (۴)
- ۹/۴ (۱)

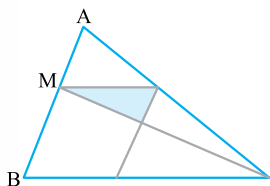
(سراسری ۹۵)

۶۴- در شکل مقابل، $\frac{MA}{MB} = \frac{3}{4}$ است. مساحت متوازی‌الاضلاع $MNPB$ چند درصد مساحت مثلث ABC است؟



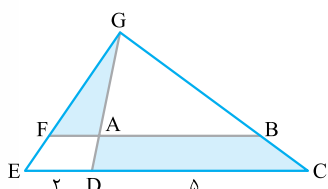
- ۴۸ (۱)
- ۵۲ (۲)
- ۵۴ (۳)
- ۵۶ (۴)

۶۵- در شکل مقابل، $\frac{MA}{MB} = \frac{2}{3}$. مساحت مثلث رنگی چند درصد مساحت متوازی‌الاضلاع است؟



- ۲۰ (۱)
- ۲۴ (۲)
- ۲۵ (۳)
- ۳۰ (۴)

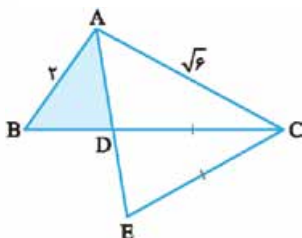
۶۶- در شکل روبه‌رو $DG = 2DA$ و اندازه پاره‌خط‌های DE و DC ، به ترتیب ۲ و ۵ واحد هستند. مساحت مثلث AFG ، چند درصد مساحت دوزنقه $ABCD$ است؟



(سراسری ۹۹)

- ۴۰ (۱)
- ۳۶ (۲)
- ۳۲ (۳)
- ۲۴ (۴)

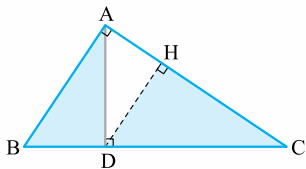
۶۷- در شکل مقابل، AD نیمساز زاویه A و $CE = CD$ است. نسبت مساحت‌های دو مثلث ACE و ABD کدام است؟



(تجربی خارج ۹۹)

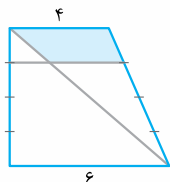
- ۱/۳ (۱)
- ۲/۳ (۲)
- ۳/۴ (۳)
- ۲/۳ (۴)

۶۸- در مثلث قائم‌الزاویه ABC ، طول اضلاع قائم $AB = \sqrt{3}$ و $AC = 2$ است. نسبت مساحت‌های دو مثلث قائم‌الزاویه HCD و ABD کدام است؟



- (تجربی ۹۹)
- (۱) $\frac{3}{7}$
- (۲) $\frac{4}{7}$
- (۳) $\frac{16}{21}$
- (۴) $\frac{8}{9}$

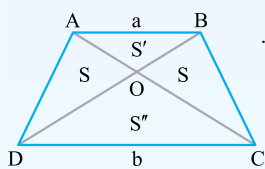
۶۹- در شکل روبه‌رو، ساق‌های دوزنقه به چهار قسمت مساوی تقسیم شده است. مساحت دوزنقه رنگی، چند درصد از مساحت دوزنقه بزرگ است؟



- (۱) $17/5$
- (۲) 35
- (۳) 25
- (۴) $12/5$

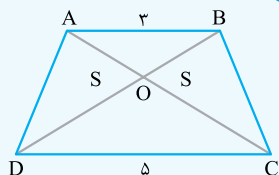
۱۰ تقسیم مساحت دوزنقه

تقسیم مساحت توسط قطرها با رسم قطرهای هر دوزنقه، چهار مثلث به وجود می‌آید که دارای ویژگی‌های زیر هستند:



- مساحت مثلث‌های AOD و BOC برابر است.
- مساحت مثلث‌های ABD و ABC با هم و همچنین مساحت مثلث‌های ADC و BDC با هم برابر است.
- مثلث‌های AOB و DOC بنا بر ساختار پروانه‌ای متشابه‌اند؛ پس: $\frac{S'}{S''} = \left(\frac{a}{b}\right)^2$

۴ حاصل ضرب مساحت مثلث‌های مقابل به هم همدیگر برابر است: $S^2 = S'S''$ یا $S \times S = S' \times S''$



مثلاً بیاید به کمک نکات بالا مساحت نواحی مختلف دوزنقه مقابل را پیدا کنیم:

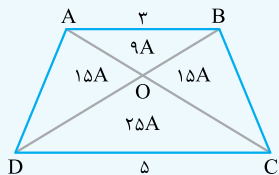
ابتدا به کمک مورد (۳)، مساحت مثلث‌های AOB و DOC را مشخص می‌کنیم:

$$\frac{S_{AOB}}{S_{DOC}} = \left(\frac{a}{b}\right)^2 = \frac{9}{25} \Rightarrow \begin{cases} S_{AOB} = 9A \\ S_{DOC} = 25A \end{cases}$$

با توجه به مورد (۲)، مساحت مثلث‌های BOC و AOD را برابر S قرار می‌دهیم. حالا به کمک مورد (۴) داریم:

$$S \times S = 9A \times 25A \Rightarrow S^2 = 9 \times 25 \times A^2 \xrightarrow{\sqrt{\quad}} S = 3 \times 5 \times A = 15A$$

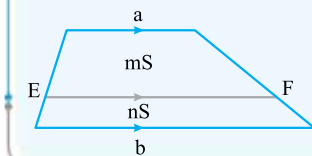
بنابراین مساحت نواحی مختلف دوزنقه به صورت مقابل است:



تقسیم مساحت توسط خط موازی قاعده‌ها اگر خطی که موازی قاعده‌های دوزنقه رسم

می‌شود، مساحت آن را به نسبت m به n تقسیم کند، طول آن برابر است با:

$$EF^2 = \frac{mb^2 + na^2}{m+n}$$

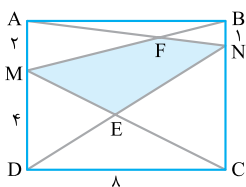


۷۰- قاعده بزرگ‌تر یک دوزنقه دو برابر قاعده کوچک‌تر آن است. مساحت کل دوزنقه چند برابر مساحت مثلث رنگی است؟



- (۱) ۷
- (۲) ۸
- (۳) ۹
- (۴) ۱۰

۷۱- مستطیل $ABCD$ مطابق شکل مقابل مفروض است. مساحت چهارضلعی $MENF$ کدام است؟



(سراسری ۱۴۰۰)

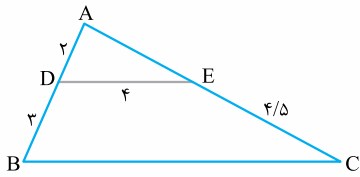
- (۱) $\frac{104}{9}$
- (۲) ۱۳
- (۳) $\frac{47}{3}$
- (۴) ۱۶

۷۲- اندازه قاعده‌های دوزنقه‌های ۵ و ۹ واحد است. پاره‌خطی موازی قاعده‌های دوزنقه چنان رسم می‌کنیم که دوزنقه را به دو قسمت با مساحت مساوی

تقسیم کند. اندازه پاره‌خط کدام است؟

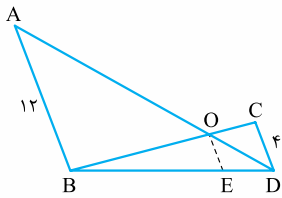
(سراسری ۹۹)

- (۱) ۷
- (۲) $\sqrt{53}$
- (۳) $4\sqrt{3}$
- (۴) $\sqrt{57}$



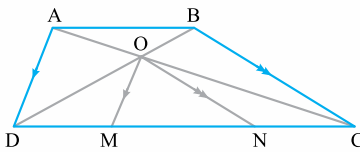
۱- در شکل روبه‌رو، محیط مثلث ADE چند برابر محیط دوزنقه BDEC است؟

- (۱) $\frac{3}{7}$
 (۲) $\frac{4}{9}$
 (۳) $\frac{18}{43}$
 (۴) $\frac{4}{10}$



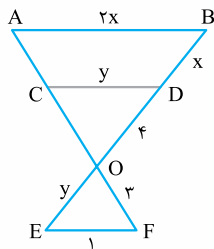
۲- در شکل روبه‌رو OE و AB موازی‌اند. مساحت مثلث BOE، چند برابر مساحت مثلث EOD است؟

- (۱) $\frac{1}{5}$
 (۲) ۲
 (۳) $\frac{2}{5}$
 (۴) ۳



۳- در دوزنقه شکل مقابل، از محل تلاقی قطرهای دوزنقه، پاره‌خط‌های OM و ON به ترتیب موازی با AD و BC رسم شده‌اند. اگر $AB = 5$ و $DC = 20$ باشد، طول پاره‌خط MN کدام است؟

- (۱) ۱۰
 (۲) ۱۱
 (۳) ۱۲
 (۴) ۱۳



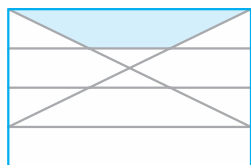
(تجربی خارج ۱۴۰۰)

۴- در شکل مقابل AB، CD و EF موازی‌اند. طول پاره‌خط AC کدام است؟

- (۱) $\frac{3}{4}$
 (۲) $\frac{4}{3}$
 (۳) ۲
 (۴) ۳

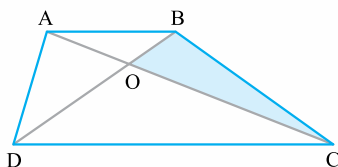
۵- در یک دوزنقه متساوی‌الساقین، قطر عمود بر ساق است. اگر اندازه قاعده بزرگ‌تر و قطر آن به ترتیب ۱۰ و ۸ واحد باشند، اندازه قاعده کوچک‌تر چند واحد است؟

- (۱) $\frac{2}{8}$
 (۲) $\frac{3}{2}$
 (۳) $\frac{6}{3}$
 (۴) $\frac{2}{4}$



۶- در شکل مقابل عرض‌های مستطیل به ۴ قسمت مساوی تقسیم شده است. اگر مساحت مستطیل $\frac{37}{5}$ واحد مربع باشد، مساحت دوزنقه رنگی کدام است؟

- (۱) $\frac{4}{75}$
 (۲) $\frac{5}{75}$
 (۳) $\frac{6}{25}$
 (۴) $\frac{7}{5}$



۷- در دوزنقه شکل مقابل، اگر مساحت مثلث ABC برابر ۳ و مساحت مثلث BDC برابر ۷ باشد، مساحت ناحیه رنگی چند درصد مساحت کل دوزنقه است؟

- (۱) ۱۹
 (۲) ۲۰
 (۳) ۲۱
 (۴) ۲۲



برای دیدن پاسخ‌های تشریحی این آزمون Qr Code مقابل را اسکن کنید.

نکته برای مجموع طول میانه‌های هر مثلث، نامساوی زیر برقرار است:

$$\text{محیط آن مثلث} < \text{مجموع طول سه میانه از هر مثلث} < \text{محیط آن مثلث} \times \frac{3}{4}$$

اول باید محدوده a را پیدا کنیم. برای این کار از نامساوی مثلث استفاده می‌کنیم:

$$|5-7| < a < 5+7 \Rightarrow 2 < a < 12 \xrightarrow{\text{اشتراک}} 8 \leq a < 12$$

بنابراین محدوده محیط مثلث می‌شود:

$$8+5+7 \leq \text{محیط} < 12+5+7 \Rightarrow 20 \leq \text{محیط} < 24$$

حالا یک بار به ازای «محیط = 24» و بار دیگر به ازای «محیط = 20» از

نکته بالا استفاده می‌کنیم: محیط < مجموع طول سه میانه < محیط $\frac{3}{4}$

$$\begin{aligned} 20 < \text{مجموع طول سه میانه} < \frac{3}{4}(20) &\Rightarrow 20 < \text{مجموع طول سه میانه} < 15 \\ 24 < \text{مجموع طول سه میانه} < \frac{3}{4}(24) &\Rightarrow 24 < \text{مجموع طول سه میانه} < 18 \end{aligned}$$

اشتراک 2 نامساوی بالا می‌شود: $20 < \text{مجموع طول سه میانه} < 18$. در بین

گزینه‌ها تنها عددی که در این بازه قرار دارد 19 است.

۲۴ گزیده ۱ **انصافاً مسئله سفتیه. یکم باید فلاقیت به فرج بدیم.** از

رأس C عمودی بر امتداد نیمساز خارجی MA رسم می‌کنیم تا امتداد BA

را در نقطه D قطع کند. حالا خوب به مثلث ADC نگاه کنید، در این مثلث

ارتفاع AH نیمساز هم هست؛ بنابراین

مثلث ACD متساوی‌الساقین و در

نتیجه MH عمودمنصف DC است. با

توجه به خاصیت عمودمنصف می‌توانیم

بگوییم $MC = MD$ و $AC = AD$

است. حالا بیایید در مثلث BMD

نامساوی مثلث را بنویسیم:

$$MB + MD > BD$$

$$\xrightarrow{MD=MC} \xrightarrow{BD=AB+AD} MB + MC > AB + AD$$

$$\xrightarrow{AD=AC} MB + MC > AB + AC \Rightarrow \frac{MB + MC}{AB + AC} > 1$$

فصل دوم قضیه تالس، تشابه و کاربردهای آن

۲۵ گزیده ۱ ابتدا شکل مسئله را رسم می‌کنیم. از تناسب

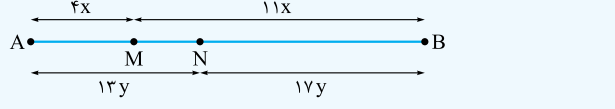
$$\frac{AM}{MB} = \frac{4}{11}$$

نتیجه می‌گیریم که $AM = 4x$ و $MB = 11x$ و هم‌چنین

$$\frac{NA}{NB} = \frac{13}{17}$$

از تناسب $NA = 13y$ و $NB = 17y$ که نتیجه می‌گیریم که

است. این اطلاعات را روی شکل می‌نویسیم:



حالا با توجه به شکل داریم:

$$\begin{cases} AB = 4x + 11x = 15x \\ AB = 13y + 17y = 30y \end{cases} \Rightarrow 15x = 30y \Rightarrow x = 2y$$

بنابراین نسبت $\frac{MN}{AB}$ برابر است با: $\frac{MN}{AB} = \frac{AN - AM}{AB} = \frac{13y - 4x}{30y}$

$$\xrightarrow{x=2y} \frac{MN}{AB} = \frac{13y - 4(2y)}{30y} = \frac{5y}{30y} = \frac{1}{6}$$

۲۶ گزیده ۱ فرض می‌کنیم $a = 10$ و $b = 15$ باشد، در این صورت چون مجموع ارتفاع‌های وارد بر این اضلاع برابر ارتفاع وارد بر ضلع سوم است،

$$h_a + h_b = h_c \xrightarrow{+h_c} \frac{h_a}{h_c} + \frac{h_b}{h_c} = 1 \Rightarrow \frac{c}{a} + \frac{c}{b} = 1$$

$$\xrightarrow{\substack{a=10 \\ b=15}} \frac{c}{10} + \frac{c}{15} = 1 \Rightarrow \frac{5c}{30} = 1 \Rightarrow c = \frac{30}{5} = 6$$

۲۷ گزیده ۱ ابتدا به کمک نوع اول جزءبه‌کل x را پیدا می‌کنیم:

$$\frac{AE}{AB} = \frac{EF}{BC} \Rightarrow \frac{4}{4+y} = \frac{x+1}{y+x+1}$$

$$\xrightarrow{\text{تفضیل در مخرج}} \frac{4}{4+y-4} = \frac{x+1}{y+x+1-(x+1)}$$

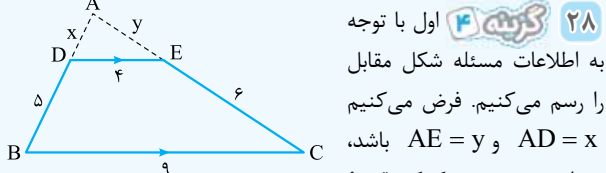
$$\Rightarrow \frac{4}{y} = \frac{x+1}{y} \Rightarrow 4 = x+1 \Rightarrow x = 3$$

حالا با استفاده از جزءبه‌جزء مقدار y را به دست می‌آوریم:

$$\frac{AE}{EB} = \frac{AF}{FC} \Rightarrow \frac{4}{y} = \frac{y^2}{5-x} \xrightarrow{x=3} \frac{4}{y} = \frac{y^2}{2}$$

$$\Rightarrow y^2 = 8 \Rightarrow y = 2\sqrt{2}$$

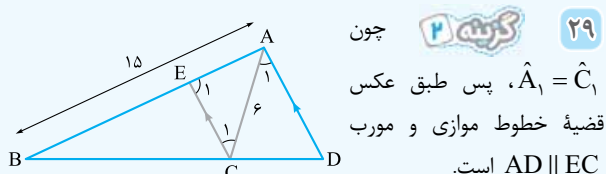
بنابراین $y - 2x = 2 - 2(3) = -4$ است.



تالس داریم: نوع اول جزءبه‌کل $\frac{x}{x+5} = \frac{y}{y+6} = \frac{4}{9}$

$$\xrightarrow{\text{تفضیل در مخرج}} \frac{x}{5} = \frac{y}{6} = \frac{4}{5} \Rightarrow \begin{cases} \frac{x}{5} = \frac{4}{5} \Rightarrow x = 4 \\ \frac{y}{6} = \frac{4}{5} \Rightarrow y = \frac{24}{5} = 4.8 \end{cases}$$

بنابراین محیط مثلثی که در بیرون دوزنقه درست می‌شود (مثلث ADE) برابر $4 + 4 + 4/8 = 12/8$ است.

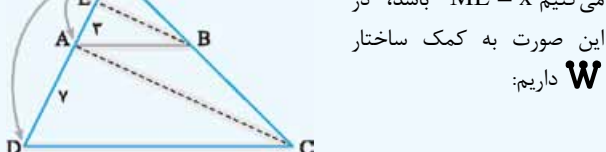


۲۹ گزیده ۲ چون $\hat{A}_1 = \hat{C}_1$ پس طبق عکس قضیه خطوط موازی و مورب $AD \parallel EC$ است.

از طرفی چون $\hat{C}_1 = \hat{E}_1$ ، بنابراین مثلث ACE متساوی‌الساقین بوده و $AE = AC = 6$ است. حالا به کمک قضیه تالس در مثلث ABD داریم:

$$\text{نوع دوم جزءبه‌کل} \frac{AE}{AB} = \frac{CD}{BD} \xrightarrow{\substack{AE=6 \\ AB=15}} \frac{6}{15} = \frac{CD}{BD}$$

$$\Rightarrow \frac{BD}{CD} = \frac{15}{6} = \frac{5}{2}$$



۳۰ گزیده ۲ فرض

می‌کنیم $ME = x$ باشد، در

این صورت به کمک ساختار

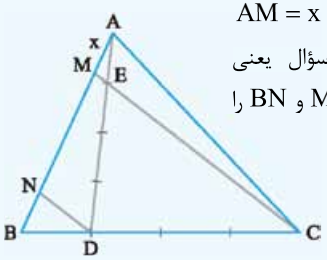
داریم: **W**



$$\begin{cases} \text{جزء به جزء: } \frac{x-0/5}{2/25} = \frac{x}{3} \Rightarrow 3x-1/5 = 2/25x \\ \Rightarrow 0/75x = 1/5 \Rightarrow x = 2 \\ \text{نوع اول جزء به کل: } \frac{x}{x+3} = \frac{y}{x+0/5} \xrightarrow{x=2} \frac{2}{5} = \frac{y}{2/5} \\ \Rightarrow y = 1 \end{cases}$$

حالا به کمک قضیه تالس در مثلث ACE طول DE را پیدا می‌کنیم:

$$\begin{cases} \text{جزء به جزء: } \frac{x}{3} = \frac{2y+0/5}{DE} \xrightarrow{\substack{x=2 \\ y=1}} \frac{2}{3} = \frac{2/5}{DE} \\ \Rightarrow 2DE = 7/5 \Rightarrow DE = 3/75 \end{cases}$$



گزینه ۳۴ فرض می‌کنیم $AM = x$ باشد. برای پیدا کردن خواسته سؤال یعنی $\frac{AB}{AM}$ باید طول پاره‌خط‌های MN و BN را بر حسب x به دست بیاوریم:

● محاسبه MN بر حسب x: از جزء به جزء در مثلث AND استفاده می‌کنیم:

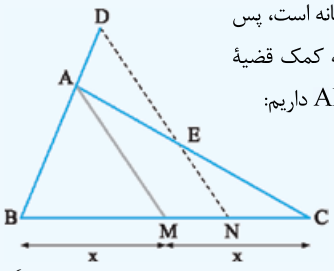
$$\frac{AM}{MN} = \frac{AE}{ED} \Rightarrow \frac{x}{MN} = \frac{1}{3} \Rightarrow MN = 3x \quad (1)$$

● محاسبه BN بر حسب x: از جزء به جزء در مثلث BMC استفاده می‌کنیم:

$$\frac{BN}{MN} = \frac{BD}{DC} \xrightarrow{(1)} \frac{BN}{3x} = \frac{1}{3} \Rightarrow BN = x \quad (2)$$

حالا نسبت $\frac{AB}{AM}$ به راحتی پیدا می‌شود:

$$\frac{AB}{AM} = \frac{AM + MN + BN}{AM} \xrightarrow{AM=x} \frac{AB}{AM} = \frac{x + 3x + x}{x} = \frac{5x}{x} = 5$$



گزینه ۳۵ چون AM میانه است، پس $MB = MC = x$ تالس در مثلث‌های AMC و NDB داریم:

$$\begin{cases} \Delta NDB \text{ جزء به جزء در } \frac{AD}{AB} = \frac{MN}{x} \\ \Delta AMC \text{ نوع دوم جزء به کل در } \frac{AE}{AC} = \frac{MN}{x} \end{cases}$$

سمت راست تساوی‌های بالا برابر هستند؛ پس سمت چپشان هم باید برابر باشند؛ یعنی:

$$\frac{AD}{AB} = \frac{AE}{AC} \xrightarrow{\text{جابه‌جایی وسطین}} \frac{AD}{AE} = \frac{AB}{AC}$$

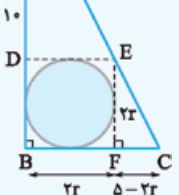
$$\xrightarrow{AB = \frac{2}{3}AC} \frac{AD}{AE} = \frac{\frac{2}{3}AC}{AC} = \frac{2}{3}$$

گزینه ۳۶ اگر شعاع دایره را r در نظر بگیریم، طول ضلع مربع BDEF می‌شود 2r.

چون $EF \parallel AB$ پس می‌توانیم در مثلث ABC تالس بنویسیم:

$$\begin{cases} \text{نوع اول جزء به کل: } \frac{CF}{BC} = \frac{EF}{AB} \Rightarrow \frac{5-2r}{5} = \frac{2r}{10} \\ \Rightarrow 5-2r = r \Rightarrow 3r = 5 \Rightarrow r = \frac{5}{3} \end{cases}$$

بنابراین مساحت دایره رنگی برابر $\frac{25}{9} \pi$ است.



$$\left(\frac{\text{فاصله M از رأس وسط W}}{MA} \right)^2 = \frac{ME \times MD}{W}$$

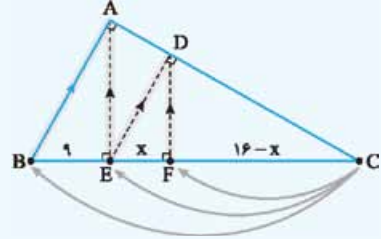
$$\Rightarrow (x+2)^2 = x(x+10) \Rightarrow x^2 + 6x + 9 = x^2 + 10x$$

$$\Rightarrow 4x = 9 \Rightarrow x = \frac{9}{4} = 2/25$$

در نتیجه فاصله MD برابر است با:

$$MD = x + 2 + 7 = 2/25 + 2 + 7 = 12/25$$

گزینه ۳۱ شکل را ببینید؛ باز هم ساختار W دیده می‌شود:



$$\left(\frac{\text{فاصله C از رأس وسط W}}{CE} \right)^2 = \frac{CF \times CB}{W}$$

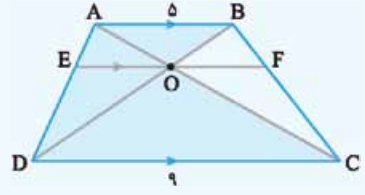
$$\Rightarrow (16-x+x)^2 = (16-x)(16-x+x+9)$$

$$\Rightarrow 16^2 = (16-x)(16+9) \Rightarrow 16-x = \frac{256}{25}$$

$$\Rightarrow x = 16 - \frac{256}{25} = \frac{144}{25} = 5/76$$

گزینه ۳۲ محل برخورد قطرهای دوزنقه را O در نظر می‌گیریم.

حالا به قسمت رنگی در شکل زیر نگاه کنید. همان‌طور که می‌بینید در این قسمت می‌توانیم از ساختار مقاومت‌های موازی استفاده کنیم:

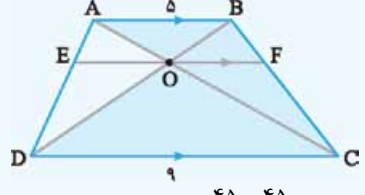


مجموع معکوس کناری‌ها = معکوس وسطی
 $\frac{1}{OE} = \frac{1}{AB} + \frac{1}{DC}$

$$\Rightarrow \frac{1}{OE} = \frac{1}{5} + \frac{1}{9} = \frac{9+5}{45} \Rightarrow OE = \frac{45}{14}$$

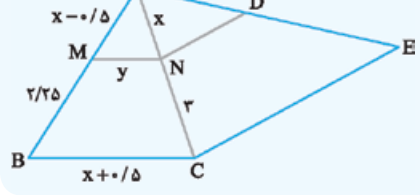
به همین ترتیب در شکل رنگی زیر هم می‌توانیم بنویسیم:

$$\frac{1}{OF} = \frac{1}{5} + \frac{1}{9} = \frac{9+5}{45} \Rightarrow OF = \frac{45}{14}$$



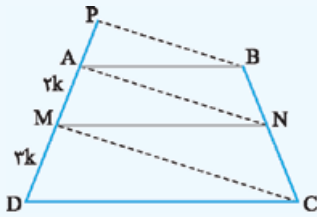
بنابراین طول پاره‌خط EF برابر است با: $EF = OE + OF = 2 \times \frac{45}{14} = \frac{45}{7}$

گزینه ۳۳ ابتدا به کمک قضیه تالس در مثلث ABC، مقادیر x و y را به دست می‌آوریم:



از طرفی چون $AB = AD$ و $BM = MC$ است، پس AM میان خط مثلث BCD بوده و $\frac{AM}{DC} = \frac{1}{2}$ است.

گزینه ۴۰ چون $AB \parallel MN \parallel DC$ ، پس طبق قضیه تالس در دوزنقه $ABCD$ داریم:



$$\frac{AM}{MD} = \frac{BN}{NC} \xrightarrow{BN=NC \Rightarrow \frac{BN}{NC} = \frac{1}{2}} \frac{AM}{MD} = \frac{1}{2}$$

$$\Rightarrow AM = 2k, MD = 3k$$

از طرفی چون $PB \parallel AN \parallel MC$ ، پس به کمک قضیه تالس در دوزنقه $PBCM$ داریم:

$$\frac{PA}{AM} = \frac{BN}{NC} \xrightarrow{\frac{BN}{NC} = \frac{1}{2}, AM = 2k} \frac{PA}{2k} = \frac{1}{2} \Rightarrow PA = k$$

حالا با توجه به این که $PD = 19$ است، k را پیدا می‌کنیم:

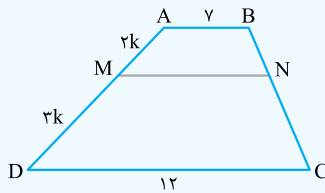
$$PD = 19 \Rightarrow PA + AM + MD = 19$$

$$\Rightarrow \frac{4}{3}k + 2k + 3k = 19 \Rightarrow \frac{19}{3}k = 19 \Rightarrow k = 3$$

بنابراین طول پاره‌خط MD برابر $MD = 3k = 3 \times 3 = 9$ است.

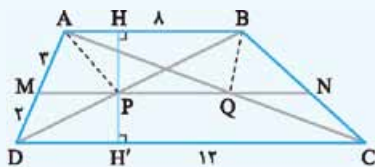
گزینه ۴۱ از تساوی $\frac{MA}{MD} = \frac{1}{2}$ نتیجه می‌گیریم که $MA = 2k$ و $MD = 3k$ است.

حالا با توجه به این که اندازه قاعده‌ها ۷ و ۱۲ است، طول پاره‌خط MN برابر می‌شود با:



$$MN = \frac{(2k)(12) + (3k)(7)}{2k + 3k} = \frac{45k}{5k} = 9$$

گزینه ۴۲ اول طول پاره‌خط PQ را به دست می‌آوریم:



$$PQ = \frac{3 \times 12 - 2 \times 8}{3 + 2} = \frac{20}{5} = 4$$

از طرفی بنا بر قضیه تالس در دوزنقه $ABCD$ داریم:

$$\frac{PH}{PH'} = \frac{3}{2} \xrightarrow{\text{ترکیب در مخرج}} \frac{PH}{PH' + PH} = \frac{3}{2+3} \Rightarrow \frac{PH}{HH'} = \frac{3}{5}$$

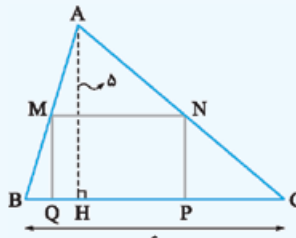
بنابراین نسبت مساحت دوزنقه $ABQP$ به مساحت دوزنقه $ABCD$ برابر است با:

$$\frac{S_{ABQP}}{S_{ABCD}} = \frac{\frac{1}{2}PH(PQ + AB)}{\frac{1}{2}HH'(AB + DC)} = \frac{PH(4 + 7)}{HH'(7 + 12)}$$

$$= \frac{PH}{HH'} \times \frac{11}{19} = \frac{3}{5} \times \frac{11}{19} = \frac{33}{95}$$

گزینه ۳۷ فرض می‌کنیم $MQ = NP = x$ باشد، در این صورت

چون نسبت طول به عرض مستطیل $\frac{3}{2}$ است، پس $MN = QP = \frac{3}{2}x$ است. حالا به کمک قضیه تالس در مثلث‌های ABC و ABH داریم:



$$\Delta ABH \text{ نوع اول جزء به کل در } \frac{MB}{AB} = \frac{MQ}{AH}$$

$$\xrightarrow{\frac{MQ=x}{AH=5}} \frac{MB}{AB} = \frac{x}{5}$$

$$\Delta ABC \text{ نوع اول جزء به کل در } \frac{AM}{AB} = \frac{MN}{BC}$$

$$\xrightarrow{\frac{MN=\frac{3}{2}x}{BC=6}} \frac{AM}{AB} = \frac{\frac{3}{2}x}{6} = \frac{x}{4}$$

$$\xrightarrow{(+)} \frac{MB + AM}{AB} = \frac{x}{5} + \frac{x}{4} \Rightarrow 1 = \frac{9}{20}x \Rightarrow x = \frac{20}{9}$$

بنابراین $MQ = \frac{20}{9}$ و $MN = \frac{3}{2} \times \frac{20}{9} = \frac{10}{3}$ و در نتیجه مساحت مستطیل برابر است با:

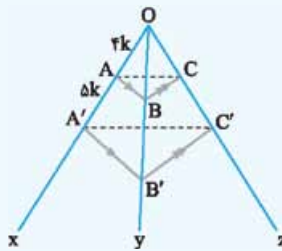
$$S_{MNPQ} = \frac{10}{3} \times \frac{20}{9} = \frac{200}{27}$$

گزینه ۳۸ چون $\frac{AA'}{OA} = \frac{5}{4}$ ، پس فرض می‌کنیم $AA' = 5k$ و $OA = 4k$ باشد. در مثلث $OA'B'$ چون $AB \parallel A'B'$ است، پس طبق

قضیه تالس $\frac{OA}{AA'} = \frac{OB}{BB'}$ است. از طرفی در مثلث $OB'C'$ هم چون $BC \parallel B'C'$ است، بنا بر قضیه تالس $\frac{OB}{BB'} = \frac{OC}{CC'}$ است، بنابراین می‌توانیم

بگوییم $\frac{OA}{AA'} = \frac{OC}{CC'}$ و در نتیجه طبق عکس قضیه تالس در مثلث $OA'C'$ ، پاره‌خط AC موازی با $A'C'$ است. حالا به کمک قضیه تالس در مثلث $OA'C'$ نسبت

نسبت $\frac{AC}{A'C'}$ را حساب می‌کنیم:

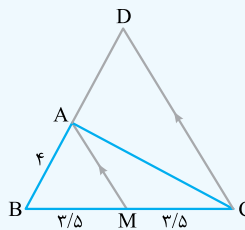


$$\Delta OA'C' \text{ نوع اول جزء به کل در } \frac{OA}{OA'} = \frac{AC}{A'C'}$$

$$\Rightarrow \frac{4k}{4k + 5k} = \frac{AC}{A'C'} \Rightarrow \frac{AC}{A'C'} = \frac{4}{9}$$

گزینه ۳۹ ابتدا شکل مسئله را

رسم می‌کنیم. چون AM میانه است، پس $MB = MC = \frac{3}{5}$. حالا با توجه به این که $AM \parallel DC$ بنا بر قضیه تالس داریم:

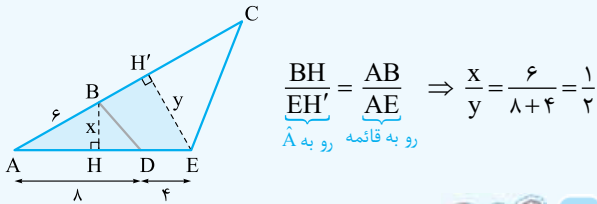


$$\Delta BDC \text{ جزء به جزء در } \frac{4}{AD} = \frac{3/5}{2/5} \Rightarrow AD = 4$$

$$\xrightarrow{\text{جای‌گذاری } AD+DC=12} DC = 8$$



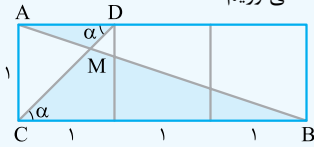
۴۷ نکته ۱ با کمی دقت متوجه می‌شویم که در شکل رنگی زیر، مثلث‌های ABH و AEH' طبق ساختار اشتراکی متشابه‌اند (تو رأس A مشترک و این‌که به زاویه قائمه برابر هم دارن)، بنابراین:



$$\frac{BH}{EH'} = \frac{AB}{AE} \Rightarrow \frac{x}{y} = \frac{6}{8+4} = \frac{1}{2}$$

رو به قائمه رو به \hat{A}

۴۸ نکته ۲ اول به کمک قضیه فیثاغورس در مثلث قائم‌الزاویه ABC ، طول پاره‌خط AB را به دست می‌آوریم:



$AB^2 = AC^2 + BC^2 = 1^2 + 3^2 \Rightarrow AB^2 = 10 \Rightarrow AB = \sqrt{10}$
از طرفی مثلث‌های AMD و CMB طبق ساختار پروانه‌ای متشابه‌اند؛ بنابراین:

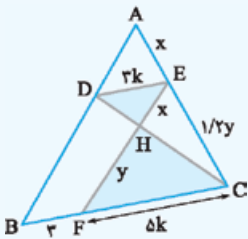
$$\frac{AM}{MB} = \frac{AD}{BC} \Rightarrow \frac{AM}{MB} = \frac{1}{3}$$

رو به M رو به α

$$\xrightarrow{\text{ترکیب در مخرج}} \frac{AM}{MB+AM} = \frac{1}{3+1} \xrightarrow{AB=\sqrt{10}} \frac{AM}{\sqrt{10}} = \frac{1}{4}$$

$$\Rightarrow AM = \frac{1}{4}\sqrt{10}$$

۴۹ نکته ۱ چون $DE \parallel BC$ است، پس مثلث‌های DHE و CHF طبق ساختار پروانه‌ای متشابه‌اند؛ پس:



$$\frac{HE}{HF} = \frac{DE}{FC} \Rightarrow \frac{x}{y} = \frac{DE}{FC}$$

$$\xrightarrow{3y = \Delta x \Rightarrow \frac{x}{y} = \frac{3}{5}} \frac{DE}{FC} = \frac{3}{5} \Rightarrow DE = 3k, FC = 5k$$

حالا به کمک قضیه تالس در مثلث ABC داریم:

$$\text{نوع اول جزء به کل} \quad \frac{AE}{AC} = \frac{DE}{BC} \Rightarrow \frac{x}{x+1/2y} = \frac{3k}{3+5k}$$

$$\xrightarrow{\text{تفضیل در مخرج}} \frac{x}{1/2y} = \frac{3k}{3+2k}$$

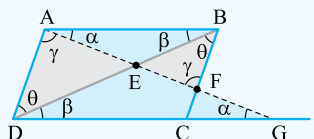
$$\xrightarrow{\frac{x}{y} = \frac{3}{5} \Rightarrow \frac{0.6}{0.5} = \frac{3k}{3+2k}} \frac{0.6}{0.5} = \frac{3k}{3+2k}$$

$$\Rightarrow \frac{1}{2} = \frac{3k}{3+2k} \Rightarrow 3+2k = 6k \Rightarrow k = \frac{3}{4}$$

بنابراین طول پاره‌خط BC برابر است با:

$$BC = 3 + 5k = 3 + 5\left(\frac{3}{4}\right) = \frac{27}{4} = 6.75$$

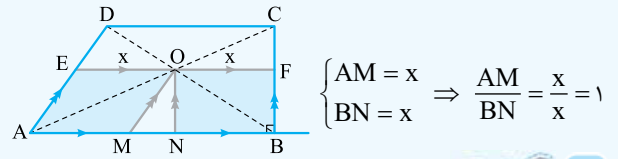
۵۰ نکته ۱ مثلث‌های AEB و DEG طبق ساختار پروانه‌ای متشابه‌اند؛ پس:



$$\frac{AE}{EG} = \frac{BE}{DE}$$

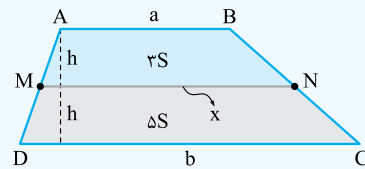
رو به α رو به β

۴۳ نکته ۱ پاره‌خط EF را موازی قاعده‌های دوزنقه رسم می‌کنیم، به طوری که از نقطه برخورد قطرهای AC و BD می‌دانیم طول تکه‌هایی که روی این پاره‌خط درست می‌شود برابرند؛ یعنی $OE = OF = x$. از طرفی چون $OM \parallel AE$ و $OE \parallel AM$ است، بنابراین چهارضلعی $AEOM$ متوازی‌الاضلاع و به همین ترتیب چهارضلعی $NOFB$ هم متوازی‌الاضلاعی است که یک زاویه قائمه دارد، پس مستطیل است. بنابراین در این دو چهارضلعی، اضلاع مقابل به هم با یکدیگر برابرند، در نتیجه:



$$\begin{cases} AM = x \\ BN = x \end{cases} \Rightarrow \frac{AM}{BN} = \frac{x}{x} = 1$$

۴۴ نکته ۲ با توجه به اطلاعات مسئله شکل زیر را رسم می‌کنیم. چون MN پاره‌خطی است که وسط ساق‌های دوزنقه را به هم وصل می‌کند، بنابراین میان‌خط است و در نتیجه ارتفاع دوزنقه را هم نصف می‌کند. سؤال می‌گوید، پاره‌خط MN مساحت دوزنقه را به نسبت ۳ به ۵ تقسیم می‌کند، این یعنی می‌توانیم مساحت دوزنقه‌های رنگی را $3S$ و $5S$ در نظر بگیریم. حالا فرض می‌کنیم $MN = x$ باشد، در این صورت داریم:

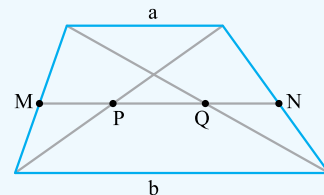


$$\frac{3S}{5S} = \frac{\frac{1}{2}h(x+a)}{\frac{1}{2}h(x+b)} \Rightarrow \frac{3}{5} = \frac{x+a}{x+b} \Rightarrow 3x+3b = 5x+5a$$

$$\Rightarrow 2x = 3b - 5a$$

$$\xrightarrow{x = \frac{a+b}{2}} 2\left(\frac{a+b}{2}\right) = 3b - 5a \Rightarrow a+b = 3b - 5a$$

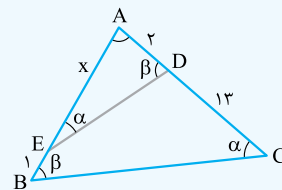
$$\Rightarrow 6a = 2b \Rightarrow \frac{a}{b} = \frac{2}{6} = \frac{1}{3}$$



۴۵ نکته ۱ اول شکل مسئله را رسم می‌کنیم. از آن جایی که میان‌خط توسط قطرهای به سه قسمت مساوی تقسیم شده است؛ پس داریم:

$$MP = PQ = QN \Rightarrow \frac{b-a}{2} = \frac{a}{2} \Rightarrow b-a = a$$

$$\Rightarrow b = 2a \Rightarrow \frac{a}{b} = \frac{1}{2}$$



۴۶ نکته ۳ مثلث‌های AED و ABC طبق ساختار اشتراکی با یکدیگر متشابه‌اند؛ بنابراین:

$$\frac{AE}{AC} = \frac{AD}{AB} = \frac{ED}{BC} \Rightarrow \frac{x}{15} = \frac{2}{x+1} = \frac{ED}{BC}$$

رو به \hat{A} رو به α رو به β

$$\Rightarrow x(x+1) = 30 = 5 \times 6 \Rightarrow x = 5$$

دو عدد متوالی دو عدد متوالی

به همین ترتیب مثلث‌های AED و BEF هم متشابه‌اند، بنابراین:

$$\frac{EF}{AE} = \frac{BE}{DE}$$

رو به ۷ رو به ۹

از آن جایی که سمت راست تساوی‌های بالا برابرند، پس سمت چپشان هم

$$\frac{AE}{EG} = \frac{EF}{AE} \Rightarrow AE^2 = EF \times EG$$

باید برابر باشند؛ یعنی:

۵۱ **گزینه ۲** می‌دانیم برای نوشتن نسبت تشابه باید اضلاع نظیر را زیر

هم بنویسیم. نظیر a را نمی‌توانیم ضلع به طول b در نظر بگیریم، زیرا در این صورت اعداد ۵، ۴، ۷ و ۹ به هیچ عنوان نمی‌توانند متناسب باشند؛ پس a را یا باید با ۹ متناظر در نظر بگیریم یا با ۷. چون به دنبال بیشترین مقدار a هستیم، آن را با ۹ متناظر در نظر می‌گیریم. حالا دو حالت داریم:

$$(1) \frac{a}{9} = \frac{4}{7} = \frac{5}{b} \Rightarrow a = \frac{36}{7} \Rightarrow \max(a) = \frac{45}{7}$$

$$(2) \frac{a}{9} = \frac{5}{7} = \frac{4}{b} \Rightarrow a = \frac{45}{7}$$

۵۲ **گزینه ۴** از تساوی $BE = 2DE$ نتیجه می‌گیریم که اگر

$$\frac{AB}{2a} = \frac{AE}{4b} = \frac{BE}{2c} = \frac{2}{3}$$

چون $DE = c$ باشد، $BE = 2c$ است. حالا چون

پس مثلث‌های ABE و BCD

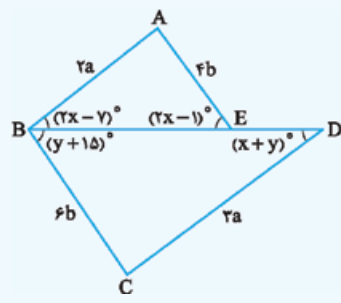
با سه ضلع متناسب

متشابه هستند. می‌دانیم در

نسبت تشابه ضلع‌های رو به

زاویه‌های برابر در یک نسبت

زیر هم قرار می‌گیرند؛ پس:



رو به زوایای برابرند.

$$\frac{AB}{CD} = \frac{AE}{BC} = \frac{BE}{BD} \Rightarrow \begin{cases} 2x-1 = y+15 \\ 2x-7 = x+y \end{cases}$$

رو به زوایای برابرند.

$$\Rightarrow \begin{cases} 2x - y = 16 \\ x - y = 7 \end{cases} \xrightarrow{(-)} x = 9 \xrightarrow{\text{جای‌گذاری}} y = 2$$

بنابراین $x + y = 9 + 2 = 11$ است.

۵۳ **گزینه ۴** چون چهارضلعی ABCD دوزنقه است، پس

$AB \parallel DC$ و در نتیجه طبق قضیه خطوط موازی و مورب می‌توانیم فرض

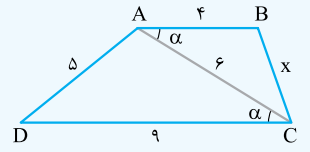
کنیم که $\hat{BAC} = \hat{ACD} = \alpha$ باشد. (به شکل زیر نگاه کنید) از طرفی

$$\frac{DC}{AC} = \frac{AC}{AB}$$

تناسب $\frac{9}{6} = \frac{6}{4}$ هم برقرار است. این یعنی مثلث‌های ABC و ACD با

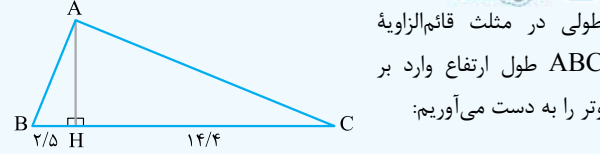
دو ضلع متناسب و زاویه بین برابر متشابه‌اند. حالا با نوشتن نسبت تشابه این

دو مثلث، خواسته سؤال یعنی $BC = x$ را به دست می‌آوریم:



$$\frac{DC}{AC} = \frac{AC}{AB} = \frac{AD}{BC} \Rightarrow \frac{9}{6} = \frac{6}{4} = \frac{5}{x} \Rightarrow \frac{3}{2} = \frac{5}{x} \Rightarrow x = \frac{10}{3}$$

۵۴ **گزینه ۲** ابتدا شکل مسئله را رسم می‌کنیم. حال به کمک روابط



طولی در مثلث قائم‌الزاویه

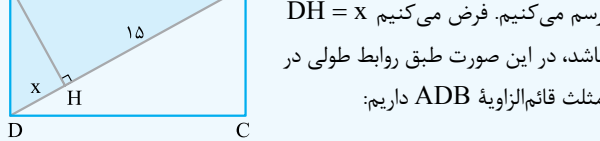
ABC طول ارتفاع وارد بر

وتر را به دست می‌آوریم:

$$AH^2 = BH \times HC \Rightarrow AH^2 = \frac{2}{5} \times \frac{14}{4} = \frac{25}{10} \times \frac{144}{10}$$

$$= \frac{25 \times 144}{100} \Rightarrow AH = \sqrt{\frac{25 \times 144}{100}} = \frac{5 \times 12}{10} = 6$$

۵۵ **گزینه ۱** ابتدا شکل مسئله را



رسم می‌کنیم. فرض می‌کنیم $DH = x$

باشد، در این صورت طبق روابط طولی در

مثلث قائم‌الزاویه ADB داریم:

$$AB^2 = BH \times BD \Rightarrow 17^2 = 15(15 + x)$$

$$\Rightarrow 289 = 225 + 15x \Rightarrow 64 = 15x \Rightarrow x = \frac{64}{15} = \frac{60 + 4}{15}$$

$= 4 + \frac{4}{15}$
بنابراین طول قطر مستطیل برابر $BD = x + 15 = 19 + \frac{4}{15}$ است که $\frac{4}{15}$ از عدد ۱۹ بیشتر است.

۵۶ **گزینه ۲** ابتدا به کمک قضیه فیثاغورس طول ضلع BC را به

$$BC = \sqrt{6^2 + 8^2} = \sqrt{100} = 10$$

دست می‌آوریم:

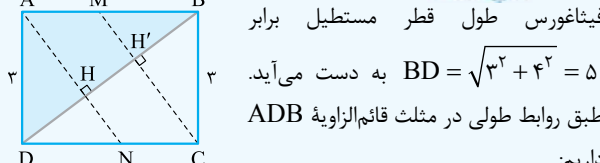
حالا با استفاده از روابط طولی در مثلث ABC، طول BH را به دست می‌آوریم:

$$AB^2 = BH \times BC \Rightarrow 6^2 = BH \times 10 \Rightarrow BH = \frac{36}{10} = \frac{3}{6}$$

در نتیجه نسبت $\frac{HM}{BC}$ برابر است با:

$$\frac{HM}{BC} = \frac{BM - BH}{BC} = \frac{10 - 3/6}{10} = \frac{1/4}{10} = 0/14$$

۵۷ **گزینه ۱** به کمک قضیه



فیثاغورس طول قطر مستطیل برابر

$BD = \sqrt{3^2 + 4^2} = 5$ به دست می‌آید.

طبق روابط طولی در مثلث قائم‌الزاویه

ADB داریم:

$$AD^2 = DH \times DB \Rightarrow 3^2 = DH \times 5 \Rightarrow DH = \frac{9}{5}$$

به همین ترتیب در مثلث BDC، $BH' = \frac{9}{5}$.

به دست می‌آید. حال به کمک قضیه تالس در

مثلث DH'C طول پاره‌خط NC را به دست

می‌آوریم:

$$\text{نوع دوم جزء به کل: } \frac{NC}{CD} = \frac{HH'}{H'D} \Rightarrow \frac{NC}{4} = \frac{5 - 2(\frac{9}{5})}{5 - \frac{9}{5}}$$

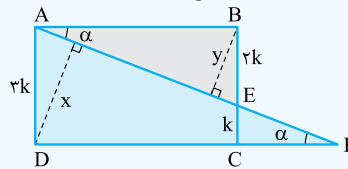
$$\Rightarrow \frac{NC}{4} = \frac{5}{16} \Rightarrow NC = \frac{5}{4}$$

بنابراین مساحت متوازی‌الاضلاع AMCن برابر است با:

$$S_{AMCN} = NC \times BC = \frac{y}{4} \times 3 = \frac{21}{4} = 5/25$$

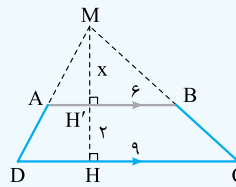
۵۸ **گزینه ۳** چون $AB \parallel DF$ ، بنا بر قضیه خطوط موازی و مورب

مثلث‌های $\hat{B} = \hat{D} = 90^\circ$ و از طرفی $\hat{B}AE = \hat{A}FC = \alpha$ است؛ بنابراین مثلث‌های ABE و ADF متشابه‌اند و در نتیجه نسبت ارتفاع‌های نظیر آن‌ها برابر با نسبت تشابه است؛ پس داریم:



$$\frac{AD}{BE} = \frac{x}{y} \Rightarrow \frac{x}{y} = \frac{2k}{2k} = \frac{3}{2}$$

۵۹ **گزینه ۲** اول با توجه به اطلاعات مسئله، شکل زیر را رسم می‌کنیم.

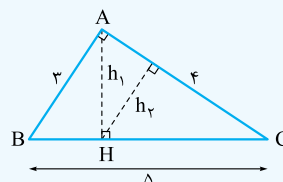


مثلث‌های AMB و MDC طبق ساختار تالسی با یکدیگر متشابه‌اند؛ بنابراین نسبت ارتفاع‌های نظیر آن‌ها با نسبت تشابهشان برابر است، یعنی:

$$\frac{AB}{DC} = \frac{MH'}{MH} \Rightarrow \frac{6}{9} = \frac{x}{x+2} \xrightarrow{\text{تفصیل در مخرج}} \frac{6}{3} = \frac{x}{2} \Rightarrow x = 4$$

بنابراین فاصله M از قاعده بزرگ‌تر برابر است با: $MH = x + 2 = 4 + 2 = 6$

۶۰ **گزینه ۲** به کمک قضیه فیثاغورس در مثلث ABC به دست



$$\text{می‌آید } BC = \sqrt{3^2 + 4^2} = 5$$

از طرفی AH، ارتفاع وارد بر وتر در مثلث ABC است؛ پس مثلث‌های ABC و AHC متشابه‌اند و در

نتیجه نسبت ارتفاع‌های آن‌ها برابر نسبت تشابهشان است؛ بنابراین:

$$\frac{h_2}{h_1} = \frac{AC}{BC} \Rightarrow \frac{h_2}{h_1} = \frac{4}{5}$$

۶۱ **گزینه ۲** برای نوشتن نسبت تشابه این دو مثلث نمی‌توانیم عدد ۳

را زیر ۳ بنویسیم، زیرا در این حالت دو مثلث بر هم منطبق هستند؛ بنابراین مثلث ABC با مثلث A'B'C' با نسبت تشابه $\frac{4}{3}$ یا $\frac{5}{3}$ متشابه است؛ چون محیط مثلث A'B'C' برابر $3 + 4 + 5 = 12$ است؛ پس:

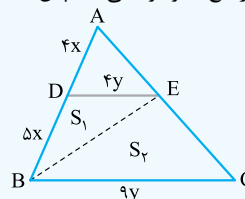
$$\frac{\text{محیط مثلث } A'B'C'}{\text{محیط مثلث } ABC} = \frac{4}{3} \text{ یا } \frac{5}{3} \Rightarrow \frac{12}{\text{محیط مثلث } ABC} = \frac{4}{3} \text{ یا } \frac{5}{3} \Rightarrow \text{محیط مثلث } ABC = 9 \text{ یا } 7/2$$

بنابراین بیشترین محیط مثلث ABC برابر ۹ است.

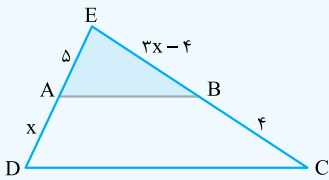
۶۲ **گزینه ۲** اول رابطه $\frac{AD}{DB} = \frac{4}{5}$ را به صورت $AD = 4x$ و

$DB = 5x$ روی شکل زیر می‌نویسیم. حالا چون $DE \parallel BC$ ، بنا بر قضیه تالس $\frac{AD}{DB} = \frac{DE}{BC} = \frac{4}{9}$ و در نتیجه $DE = 4y$ و $BC = 9y$ است. می‌دانیم با رسم قطر هر دوزنقه، دو مثلث هم‌ارتفاع به وجود می‌آید؛ پس:

$$\frac{S_2}{S_1} = \frac{9y}{4y} = 2/25$$



۶۳ **گزینه ۲** اول به کمک قضیه تالس مقدار X را به دست می‌آوریم:



$$\text{جزء به جزء: } \frac{5}{x} = \frac{3x-4}{4} \Rightarrow 20 = x(3x-4)$$

$$\Rightarrow 3x^2 - 4x - 20 = 0 \Rightarrow x = \frac{4 \pm \sqrt{16 - 4(3)(-20)}}{6} = \frac{4 \pm \sqrt{256}}{6} \xrightarrow{x > 0} x = \frac{4+16}{6} = \frac{10}{3}$$

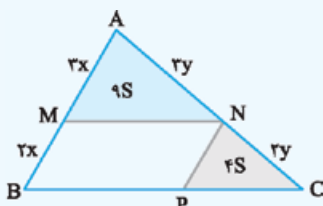
حالا با توجه به این که مثلث‌های AEB و DEC طبق ساختار تالسی متشابه هستند، داریم:

$$\frac{S_{AEB}}{S_{DEC}} = \left(\frac{EA}{ED}\right)^2 = \left(\frac{5}{5+x}\right)^2 \xrightarrow{x=\frac{10}{3}} \frac{S_{AEB}}{S_{DEC}} = \left(\frac{5}{5+\frac{10}{3}}\right)^2 = \frac{9}{25} \Rightarrow S_{AEB} = 9S, S_{DEC} = 25S$$

بنابراین مساحت دوزنقه $S_{ABCD} = 25S - 9S = 16S$ بوده و نسبت مورد

$$\text{نظر برابر } \frac{S_{ABCD}}{S_{AEB}} = \frac{16}{9} \text{ است.}$$

۶۴ **گزینه ۱** چون $MN \parallel BC$ ، پس طبق قضیه تالس داریم:



$$\frac{AM}{MB} = \frac{AN}{NC} = \frac{2}{2} \Rightarrow \begin{cases} AM = 2x, MB = 2x \\ AN = 2y, NC = 2y \end{cases}$$

اطلاعات بالا را روی شکل می‌نویسیم. مثلث‌های AMN و ABC، طبق ساختار تالسی متشابه‌اند؛ پس نسبت مساحتشان می‌شود:

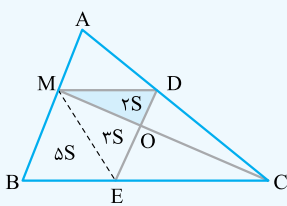
$$\frac{S_{AMN}}{S_{ABC}} = \left(\frac{AM}{MB}\right)^2 = \left(\frac{2x}{2x}\right)^2 = \frac{9}{25} \Rightarrow S_{AMN} = 9S, S_{ABC} = 25S$$

به همین ترتیب برای مثلث‌های NPC و ABC هم داریم:

$$\frac{S_{NPC}}{S_{ABC}} = \left(\frac{CN}{CA}\right)^2 = \left(\frac{2y}{2y}\right)^2 \xrightarrow{S_{ABC}=25S} \frac{S_{NPC}}{25S} = \frac{4}{25} \Rightarrow S_{NPC} = 4S$$

بنابراین نسبت مساحت متوازی‌الاضلاع MNPB به مثلث ABC برابر است

$$\text{با: } \frac{S_{MNPB}}{S_{ABC}} = \frac{25S - 9S - 4S}{25S} = \frac{12S}{25S} = \frac{48}{100}$$



۶۵ **گزینه ۱** از نمادگذاری

شکل مقابل استفاده می‌کنیم. قطر BMDE از متوازی‌الاضلاع

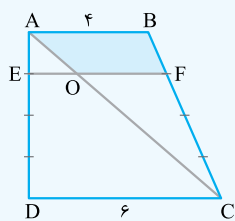
را رسم می‌کنیم. چون $DE \parallel AB$

است، پس $\frac{OD}{OE} = \frac{AM}{MB} = \frac{2}{3}$ از

طرفی مثلث‌های MOD و MOE هم‌ارتفاع‌اند؛ بنابراین:

$$\frac{S_{MOD}}{S_{MOE}} = \frac{OD}{OE} = \frac{2}{3} \Rightarrow S_{MOD} = 2S, S_{MOE} = 3S$$

۶۹ **گوشه ۱** از نمادگذاری شکل زیر استفاده می‌کنیم. چون



$$\frac{AE}{ED} = \frac{BF}{FC} = \frac{1}{3}$$

تالس در ذوزنقه، $EF \parallel AB \parallel DC$ است؛ بنابراین مثلث‌های ABC و COF طبق ساختار تالسی متشابه‌اند، در نتیجه:

$$\frac{S_{COF}}{S_{ABC}} = \left(\frac{CF}{BC}\right)^2 = \left(\frac{3}{4}\right)^2 = \frac{9}{16} \Rightarrow S_{COF} = 9S, S_{ABC} = 16S$$

$$\Rightarrow S_{ABFO} = 16S - 9S = 7S$$

از طرفی مثلث‌های ABC و ADC هم‌ارتفاع هستند؛ بنابراین نسبت مساحت‌هایشان برابر است با نسبت قاعده‌هایشان، یعنی:

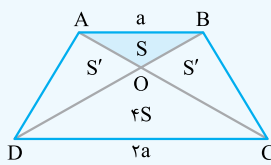
$$\frac{S_{ABC}}{S_{ADC}} = \frac{AB}{DC} \xrightarrow{S_{ABC}=16S} \frac{16S}{S_{ADC}} = \frac{4}{6}$$

$$\Rightarrow S_{ADC} = 24S \Rightarrow S_{ABCD} = 24S + 16S = 40S$$

بنابراین نسبت مساحت ذوزنقه $ABFO$ به ذوزنقه $ABCD$ برابر است با:

$$\frac{S_{ABFO}}{S_{ABCD}} = \frac{7S}{40S} = \frac{7}{40}$$

۷۰ **گوشه ۳** فرض می‌کنیم طول قاعده‌های ذوزنقه a و $2a$ باشد؛



بنابراین مثلث‌های AOB و DOC با نسبت تشابه ۲ متشابه‌اند و در نتیجه می‌توانیم مساحت‌های آن‌ها را مطابق شکل S و $4S$ در نظر بگیریم. از طرفی

می‌دانیم در ذوزنقه، حاصل ضرب مساحت مثلث‌های روبه‌روی هم (BOC و AOD)

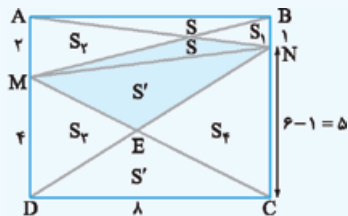
$$S'^2 = S \times 4S = 4S^2 \Rightarrow S' = 2S$$

برابرند؛ یعنی:

بنابراین نسبت مساحت ذوزنقه به مساحت مثلث رنگی برابر

$$\frac{S + 4S + 2S + 2S}{S} = 9 \text{ است.}$$

۷۱ **گوشه ۱** از M به N وصل می‌کنیم تا ذوزنقه‌های $ABNM$ و



$MNCD$ درست بشوند. در

ذوزنقه $ABNM$ داریم:

$$\frac{S_1}{S_2} = \left(\frac{1}{2}\right)^2 = \frac{1}{4} \Rightarrow \begin{cases} S_1 = A \\ S_2 = 4A \end{cases} \xrightarrow{S' = S_1 \times S_2} S' = 4A^2$$

$$\Rightarrow S = 2A$$

برای مساحت قسمت‌های مختلف ذوزنقه $MNCD$ هم می‌توانیم بنویسیم.

$$\frac{S_3}{S_4} = \left(\frac{4}{5}\right)^2 = \frac{16}{25} \Rightarrow \begin{cases} S_3 = 16B \\ S_4 = 25B \end{cases}$$

$$\xrightarrow{S'' = S_3 \times S_4} S'' = 16 \times 25 \times B^2 \Rightarrow S' = 4 \times 5 \times B = 20B$$

مثلث‌های AMN و MND هم‌ارتفاع‌اند، پس نسبت مساحت‌هایشان برابر

$$\frac{S_{AMN}}{S_{MND}} = \frac{AM}{MD} \Rightarrow \frac{S + S_3}{S' + S_4} = \frac{2}{4} \text{ : نسبت قاعده‌هایشان است؛ یعنی:}$$

$$\Rightarrow \frac{2A + 4A}{20B + 16B} = \frac{1}{2} \Rightarrow \frac{A}{6B} = \frac{1}{2} \Rightarrow A = 3B \quad (*)$$

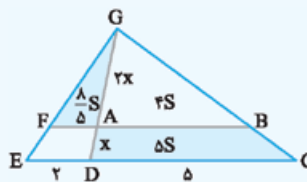
می‌دانیم با رسم قطر هر متوازی‌الاضلاع دو مثلث همنهشت به وجود می‌آید؛

$$S_{BME} = S_{MOE} = 2S + 3S \Rightarrow S_{BME} = 5S$$

پس:

$$\Rightarrow \frac{S_{MOD}}{S_{BMDE}} = \frac{2S}{10S} = \frac{2}{10}$$

۶۶ **گوشه ۳** چون $DG = 3DA$ ، پس می‌توانیم فرض کنیم که



$DG = 3x$ ، $DA = x$ و در

نتیجه $AG = 2x$ باشد. از آنجایی

که مثلث‌های AGB و DGC طبق

ساختار تالسی متشابه‌اند، نسبت

مساحتشان می‌شود:

$$\frac{S_{AGB}}{S_{DGC}} = \left(\frac{GA}{GD}\right)^2 = \left(\frac{2x}{3x}\right)^2 = \frac{4}{9} \Rightarrow S_{AGB} = 4S, S_{DGB} = 9S$$

$$\Rightarrow S_{ABCD} = 9S - 4S = 5S$$

گفتیم که در شکل بالا رابطه $\frac{S_{AGB}}{S_{AGF}} = \frac{S_{ABCD}}{S_{AFED}} = \frac{AB}{AF} = \frac{DC}{DE}$ برقرار است، پس:

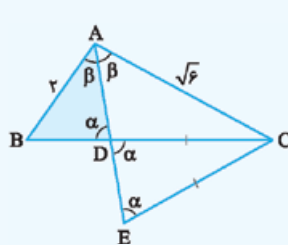
$$\frac{S_{AGB}}{S_{AGF}} = \frac{DC}{DE} \Rightarrow \frac{4S}{S_{AGF}} = \frac{5}{2} \Rightarrow S_{AGF} = \frac{8S}{5}$$

بنابراین نسبت مساحت مثلث AGF به ذوزنقه $ABCD$ برابر است با:

$$\frac{S_{AGF}}{S_{ABCD}} = \frac{\frac{8}{5}S}{5S} = \frac{8}{25} = \frac{32}{100}$$

۶۷ **گوشه ۲** چون $CE = CD$ است، پس مثلث CDE متساوی‌الساقین

و در نتیجه $\hat{D} = \hat{E} = \alpha$ است. از طرفی AD نیمساز زاویه A است، بنابراین



و در نتیجه $\hat{B}AD = \hat{D}AC = \beta$

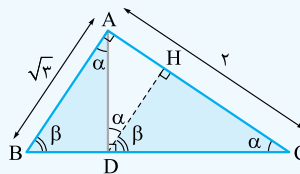
مثلث‌های ABD و ACE با دو زاویه

برابر α و β متشابه بوده و نسبت

مساحتشان می‌شود:

$$\frac{S_{ABD}}{S_{ACE}} = \left(\frac{AB}{AC}\right)^2 = \left(\frac{2}{\sqrt{6}}\right)^2 = \frac{2}{3}$$

۶۸ **گوشه ۳** ابتدا به کمک قضیه فیثاغورس طول ضلع BC را به



دست می‌آوریم:

$$BC = \sqrt{2^2 + 3^2} = \sqrt{13}$$

در ادامه به کمک روابط طولی در مثلث قائم‌الزاویه ABC طول CD را

حساب می‌کنیم:

$$AC^2 = CD \times BC \Rightarrow 2^2 = CD \times \sqrt{13} \Rightarrow CD = \frac{4}{\sqrt{13}}$$

حالا اگر زوایای برابر دو مثلث رنگی را مطابق شکل بالا مشخص کنیم، متوجه

می‌شویم که مثلث‌های ABD و HDC با دو زاویه برابر α و β متشابه‌اند؛

پس نسبت مساحتشان می‌شود:

$$\frac{S_{HDC}}{S_{ABD}} = \left(\frac{CD}{AB}\right)^2 \xrightarrow{\substack{AB=\sqrt{13} \\ CD=\frac{4}{\sqrt{13}}}} \frac{S_{ABD}}{S_{HDC}} = \left(\frac{\sqrt{13}}{4}\right)^2 = \frac{16}{21}$$

رو به 90°

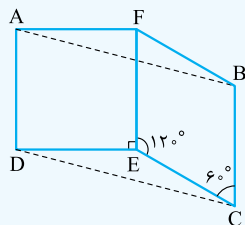
بنابراین یک ۱۸ ضلعی داریم که می‌خواهیم ببینیم اگر دو ضلع از ضلع‌هایش کم بشود، از تعداد قطرهایش چه قدر کم می‌شود. برای این کار تعداد قطرهای یک ۱۶ ضلعی را از تعداد قطرهای یک ۱۸ ضلعی کم می‌کنیم؛ ببینید:

$$\frac{18(18-3)}{2} - \frac{16(16-3)}{2} = 9 \times 15 - 8 \times 13 = 135 - 104 = 31$$

می‌توانستیم بدون محاسبه عدد آخر هم به جواب برسیم:

$$\dots = \underbrace{9 \times 15}_{\text{رقم یکان: ۵}} - \underbrace{8 \times 13}_{\text{رقم یکان: ۴}} = \dots 5 - \dots 4 = \dots 1$$

با توجه به گزینه‌ها \rightarrow ۳۱ جواب درسته



۷۶ نکته می‌دانیم در لوزی

زاویه‌های مجاور مکمل‌اند، پس مطابق شکل، $\widehat{FEC} = 180^\circ - 60^\circ = 120^\circ$

و در نتیجه زاویه DEC می‌شود:

$$\widehat{DEC} = 360^\circ - (90^\circ + 120^\circ) = 150^\circ$$

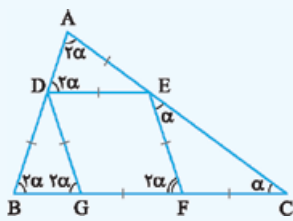
همان‌طور که در شکل می‌بینید، لوزی و مربع در ضلع EF مشترک‌اند، پس طول همه اضلاع آن‌ها با هم برابر است. در نتیجه $DE = EC$ و مثلث DEC متساوی‌الساقین است؛ بنابراین زاویه‌های زیر ساق در این مثلث،

$$\frac{180^\circ - 150^\circ}{2} = 15^\circ$$

هستند. حالا خوب به متوازی‌الاضلاع ABCD نگاه کنید، زاویه ADC در این متوازی‌الاضلاع برابر $90^\circ + 15^\circ = 105^\circ$

و زاویه BCD برابر $60^\circ + 15^\circ = 75^\circ$ است؛ بنابراین بزرگ‌ترین زاویه متوازی‌الاضلاع 105° است.

۷۷ نکته اول زاویه‌های زیر ساق را در مثلث متساوی‌الساقین EFC



برابر α قرار می‌دهیم. (به شکل مقابل نگاه کنید). زاویه EFG، زاویه خارجی مثلث EFC است، پس این زاویه برابر

می‌شود با جمع زاویه‌های $\widehat{FEC} = \alpha$ و $\widehat{ECF} = \alpha$ ؛ یعنی:

$$\widehat{EFG} = \alpha + \alpha = 2\alpha$$

حالا خوب به چهارضلعی DEFG نگاه کنید. همان‌طور که می‌بینید طول ضلع‌های این چهارضلعی برابرند، پس DEFG یک لوزی است. می‌دانیم ضلع‌های مقابل لوزی موازی‌اند؛ بنابراین با توجه به قضیه خطوط موازی و مورب و متساوی‌الساقین بودن مثلث‌های BDG و ADE داریم:

$$\begin{cases} DG \parallel EF \\ BC: \text{مورب} \end{cases} \Rightarrow \widehat{DGB} = \widehat{EFG} = 2\alpha$$

$$\xrightarrow{\Delta BDG \text{ متساوی‌الساقین است.}} \widehat{DBG} = \widehat{DGB} = 2\alpha$$

$$\begin{cases} DE \parallel BC \\ AB: \text{مورب} \end{cases} \Rightarrow \widehat{ADE} = \widehat{B} = 2\alpha$$

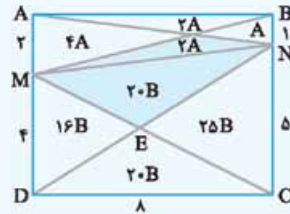
$$\xrightarrow{\Delta AED \text{ متساوی‌الساقین است.}} \widehat{DAE} = \widehat{ADE} = 2\alpha$$

در آخر برای به دست آوردن زاویه A، کافی است مجموع زاویه‌های داخلی مثلث ABC را مساوی با 180° بگذاریم:

$$\widehat{A} + \widehat{B} + \widehat{C} = 180^\circ \Rightarrow 2\alpha + 2\alpha + \alpha = 180^\circ \Rightarrow 5\alpha = 180^\circ$$

$$\Rightarrow \alpha = 36^\circ \xrightarrow{\widehat{A} = 2\alpha} \widehat{A} = 2 \times 36^\circ = 72^\circ$$

حالا با توجه به این که مساحت مستطیل برابر $6 \times 8 = 48$ است، مقدار B را پیدا می‌کنیم:



$$(A + 4A + 2A + 2A) + (16B + 25B + 20B + 20B) = 48$$

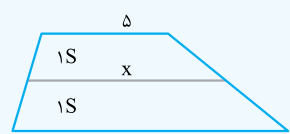
$$\Rightarrow 9A + 81B = 48 \xrightarrow{(*)} 9(3B) + 81B = 48$$

$$\Rightarrow 108B = 48 \Rightarrow B = \frac{48}{108} = \frac{4}{9}$$

بنابراین مساحت ناحیه رنگی برابر است با:

$$S_{\text{رنگی}} = 2A + 20B = 2(3B) + 20B = 26B$$

$$\Rightarrow S_{\text{رنگی}} = 26 \times \frac{4}{9} = \frac{104}{9}$$



۷۲ نکته طول پاره‌خط

مورد نظر برابر است با:

$$x^2 = \frac{(1 \times 9^2) + (1 \times 5^2)}{1+1} = \frac{106}{2} \Rightarrow x^2 = 53 \Rightarrow x = \sqrt{53}$$

فصل سوم چندضلعی‌ها

۷۳ نکته ۱ فرض می‌کنیم با یک n ضلعی طرف هستیم. در این

صورت چون تعداد قطرهای، یعنی $\frac{n(n-3)}{2}$ ، با تعداد اضلاع، یعنی n برابر است، می‌توانیم بنویسیم:

$$\frac{n(n-3)}{2} = n \Rightarrow n(n-3) = 2n \Rightarrow n = 5$$

بنابراین باید هر زاویه داخلی یک ۵ ضلعی منظم را پیدا کنیم که می‌شود:

$$\frac{180^\circ(5-2)}{5} = 36^\circ \times 3 = 108^\circ$$

۷۴ نکته ۳ اول نکته زیر را ببینید:

نکته از هر رأس یک n ضلعی، $n-3$ قطر می‌گذرد؛ مثلاً از هر رأس یک ۵ ضلعی، $5-3=2$ قطر می‌گذرد.

فرض می‌کنیم تعداد اضلاع چندضلعی گفته شده n باشد، در این صورت چون تعداد قطرهای ۲۰ تا است؛ پس:

$$\frac{n(n-3)}{2} = 20 \Rightarrow \frac{n(n-3)}{2} = 40 = \frac{8 \times 5}{2} \Rightarrow n = 8$$

۳ واحد اختلاف ۳ واحد اختلاف

بنابراین یک ۸ ضلعی داریم که می‌خواهیم ببینیم از هر رأسش چند قطر می‌گذرد. طبق نکته بالا جواب می‌شود $8-3=5$.

۷۵ نکته ۲ چون تعداد قطرهای هر n ضلعی $\frac{n(n-3)}{2}$ است، پس

با کم شدن یک ضلع، تعداد قطرهای می‌شود:

$$\frac{(n-1)[(n-1)-3]}{2} = \frac{(n-1)(n-4)}{2}$$

به گفته سؤال با کم شدن یک ضلع، از تعداد قطرهای ۱۶ تا کم می‌شود؛ بنابراین:

$$\frac{n(n-3)}{2} - \frac{(n-1)(n-4)}{2} = 16$$

$$\Rightarrow \frac{(n^2 - 3n) - (n^2 - 5n + 4)}{2} = 16 \Rightarrow \frac{2n - 4}{2} = 16$$

$$\Rightarrow n - 2 = 16 \Rightarrow n = 18$$